


Ментальная арифметика



Рабочая тетрадь Сложение и вычитание 4-6 лет Часть 1



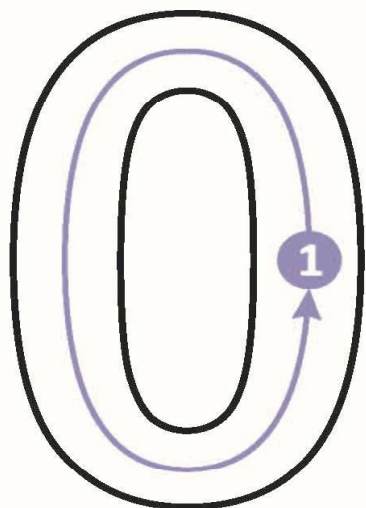
Оглавление.

	стр.
Урок 1.....	3
Урок 2.....	7
Урок 3.....	11
Урок 4.....	16
Урок 5.....	20
Урок 6.....	24
Урок 7.....	28
Урок 8.....	32
Урок 9.....	36
Урок 10.....	40
Урок 11.....	44
Урок 12.....	48
Урок 13.....	52
Урок 14.....	56
Урок 15.....	60
Урок 16.....	64
Урок 17.....	68
Урок 18.....	72
Урок 19.....	76
Урок 20.....	80
Урок 21.....	84
Урок 22.....	88
Урок 23.....	92
Урок 24.....	96
Урок 25.....	100
Урок 26.....	104
Урок 27.....	108
Урок 28.....	112
Урок 29.....	116
Урок 30.....	120
Урок 31.....	124
Урок 32.....	128

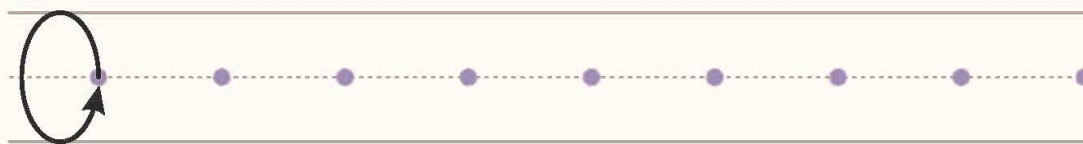
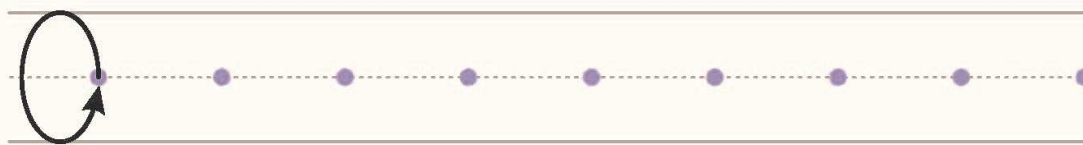
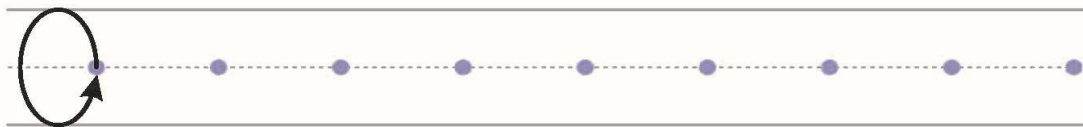
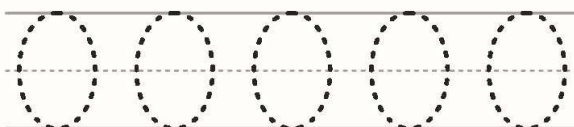
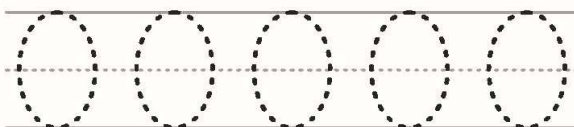
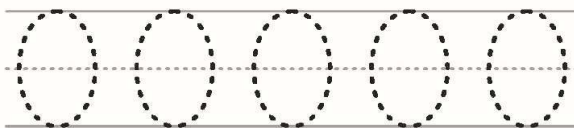
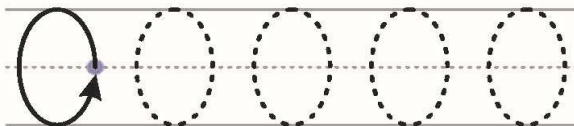


Урок 1. Знакомство с абакусом.

Задание №1.



НОЛЬ



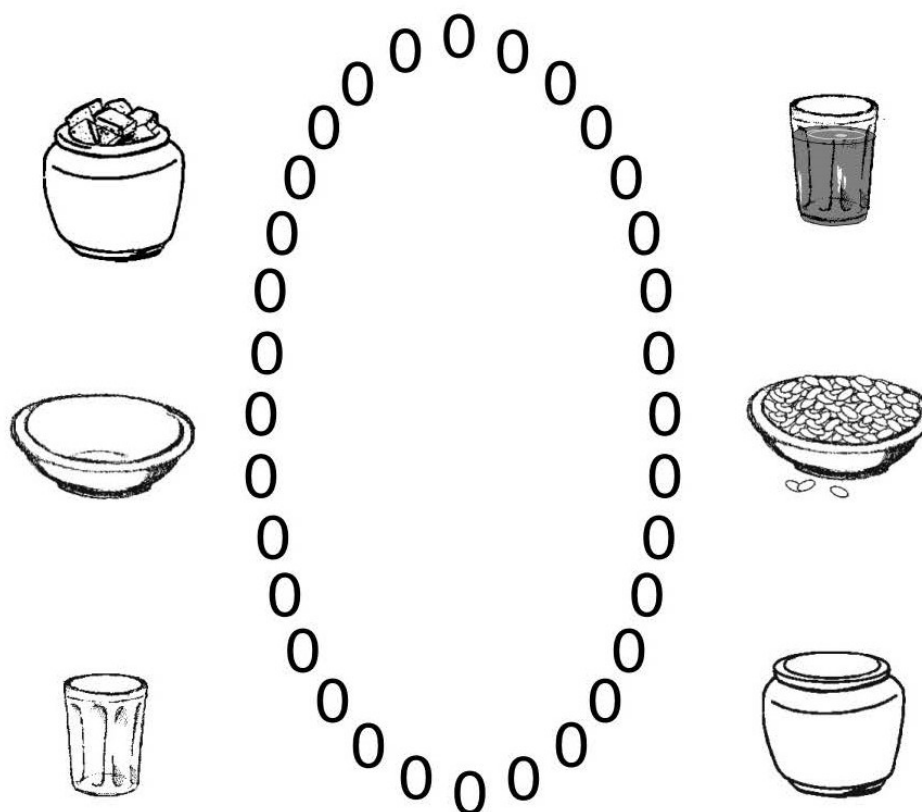
Задание №2.

Обведи пальчиком большую цифру 0 три раза


Покажи и назови все маленькие цифры 0 на странице.

С помощью фасоли выложи большую цифру 0, которая изображена на странице.

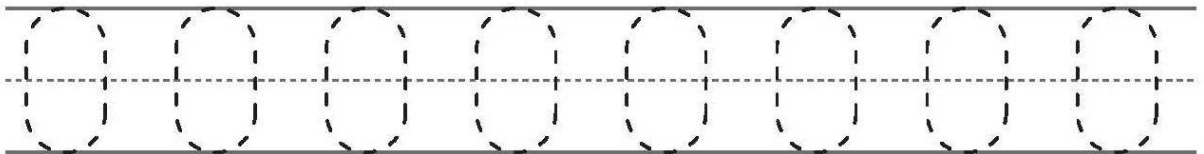
Обведи карандашом посуду, в которой ничего нет.



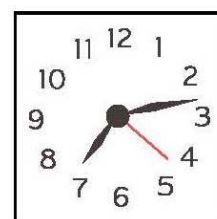
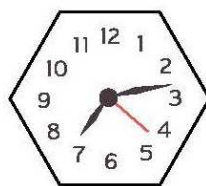
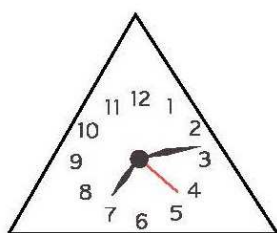
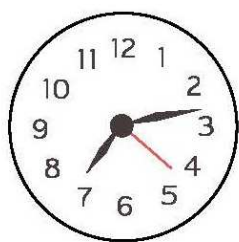
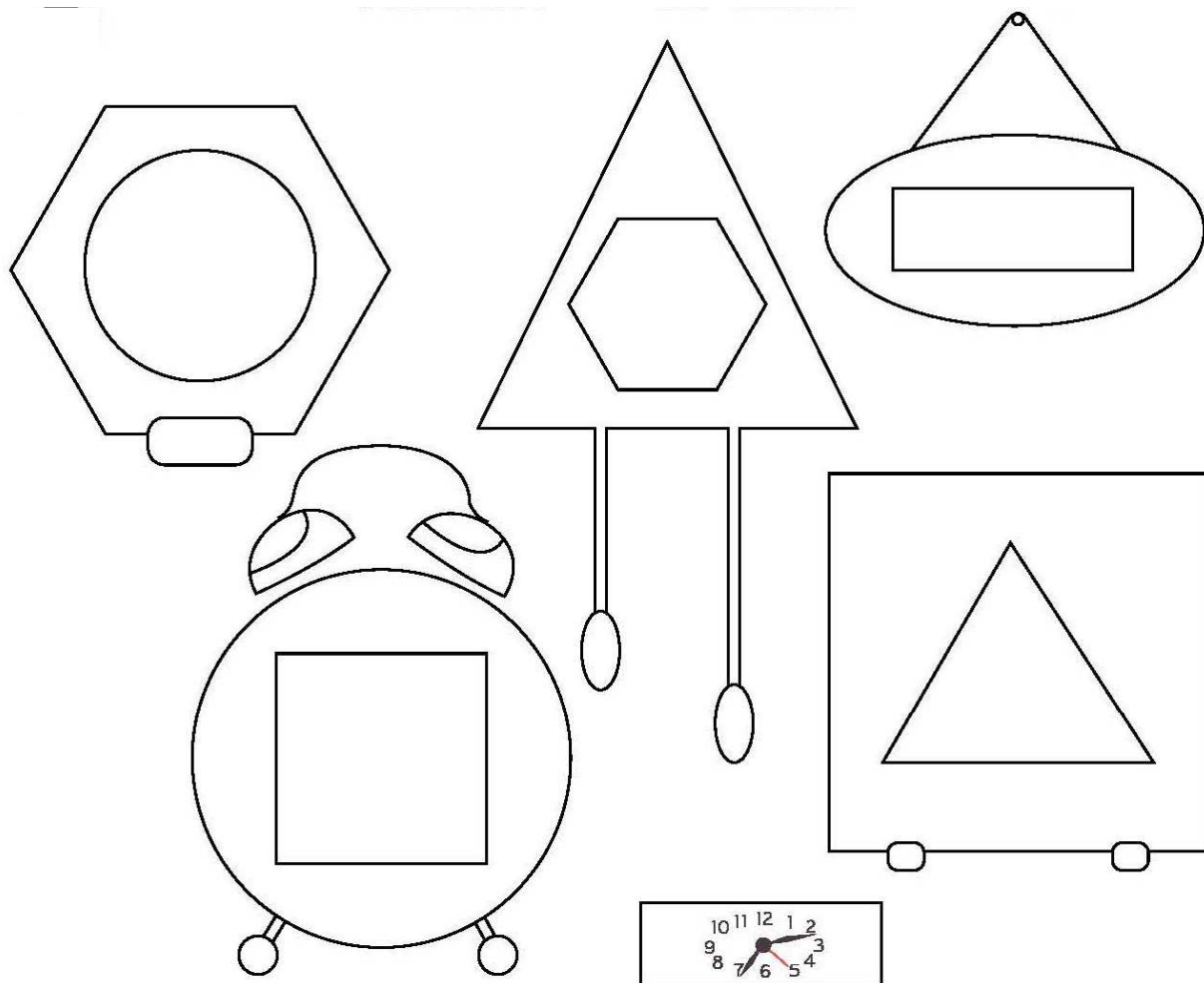
Задание №3. Найди все цифры 0 и раскрась их. Посчитай, сколько цифр у тебя получилось.



Напиши цифры по пунктирным линиям.

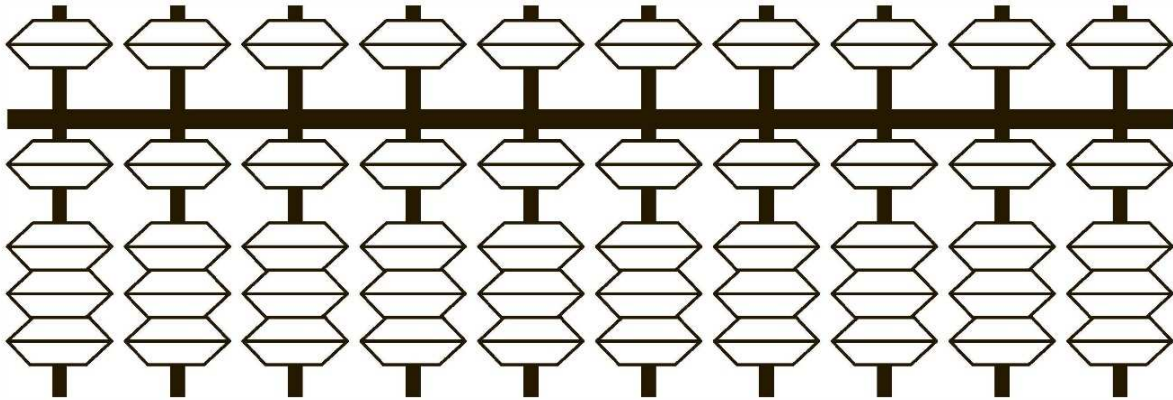


Задание №4. Рассмотрите рисунки. Соедини циферблаты с соответствующими часами.

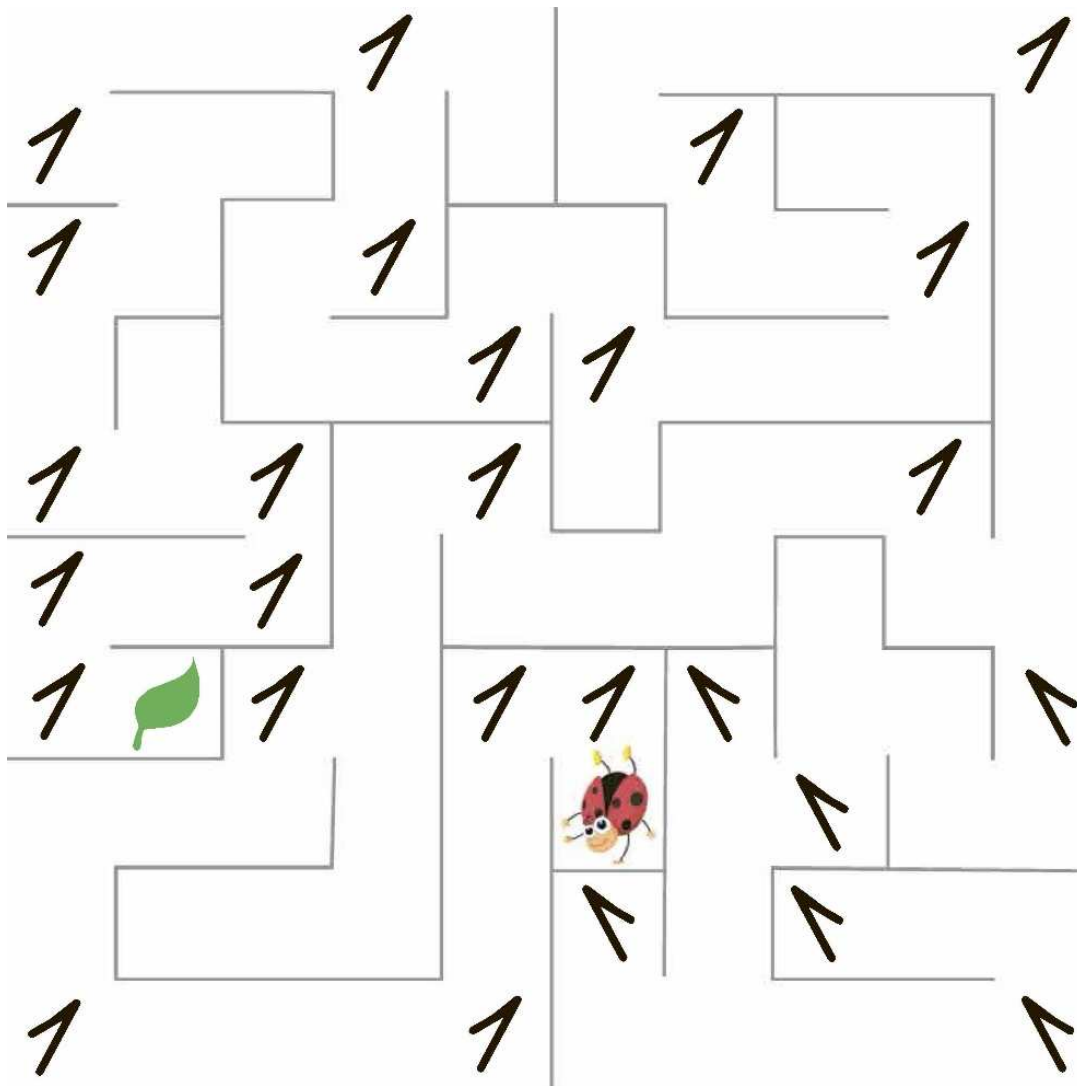


Урок 2. Число и цифра 1.

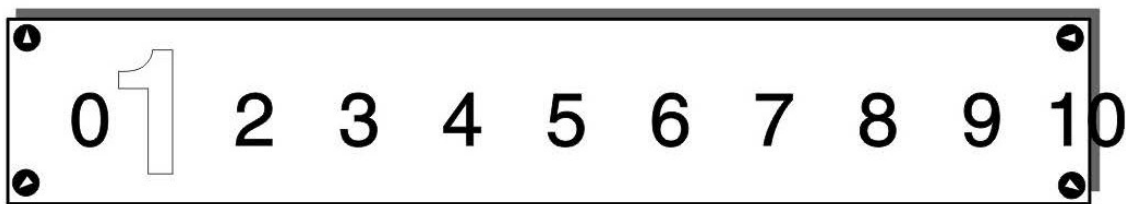
Задание №1. Закрась число один на каждой спице абакуса.



Пройди лабиринт глазками. Цифра 1 поможет тебе.




Задание №2. Посчитай от 0 до 10. Найди и раскрась цифру 1.



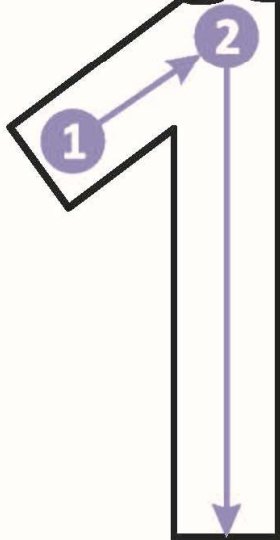

Обведи пальчиком большую цифру 1

Назови и покажи все маленькие цифры 1

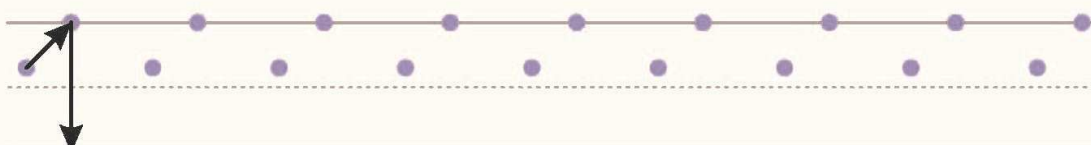
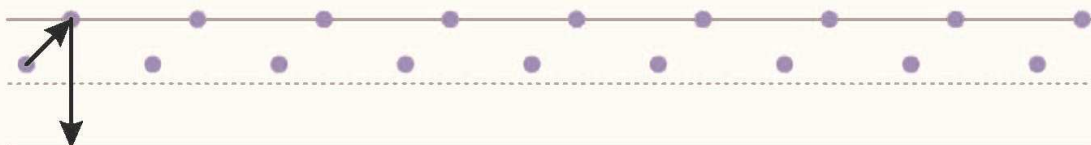
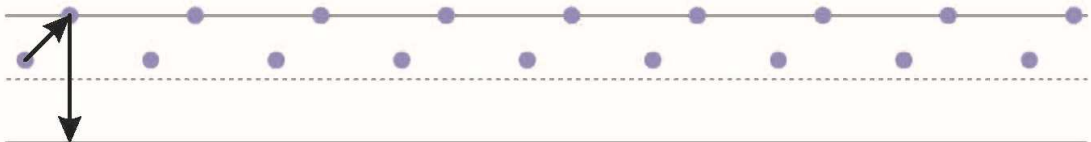
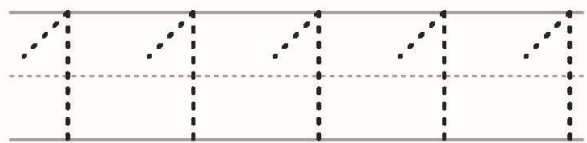
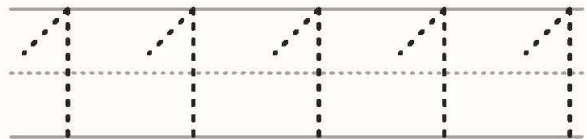
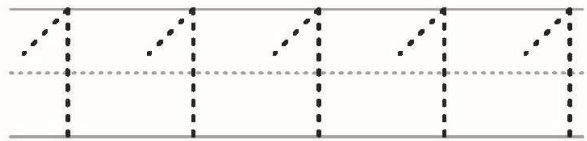
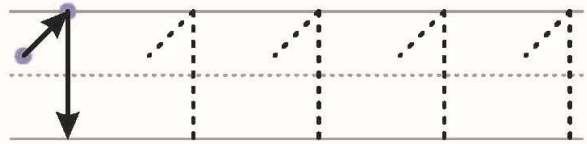
Обведи животных, которые нарисованы по одному.



Задание №3.




ОДИН



Задание №4.

Найди на картинке две фигуры, у которых нет пары, и раскрась их по своему усмотрению.




Урок 3. Число и цифра 2.

Задание №1. Нарисуй косточки так, чтобы получилось число один на каждой спице абакуса.



Закрась число 2 на каждой спице абакуса.



Потренируйся писать цифры.

1	1	1	1	1	1	1	1	1	1

0	0	0	0	0	0	0	0	0	0

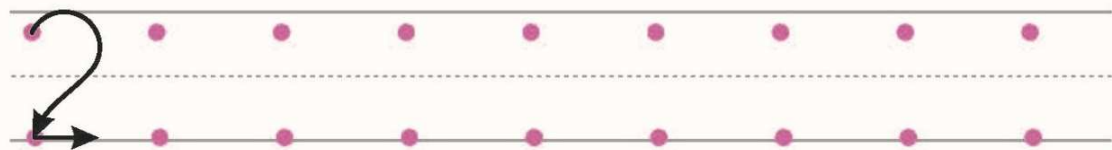
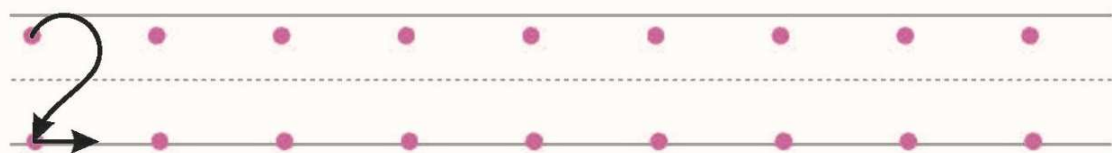
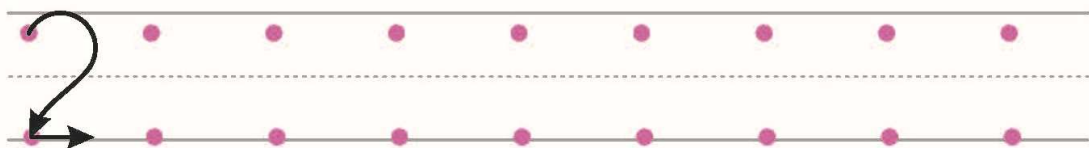
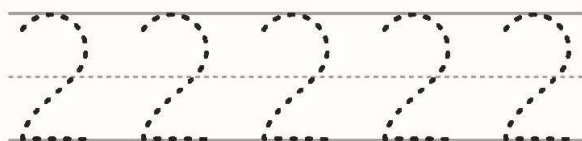

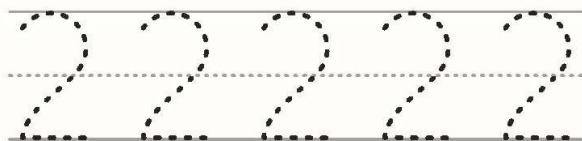
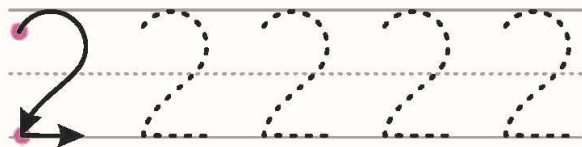
0	1	0	1	0	1	0	1	0	1



Задание №2.




ДВА




Задание №3. Реши примеры на абакусе.

1	1	2	0
0	1	-1	1

Найди все цифры **2** и раскрась их. Посчитай, сколько цифр у тебя получилось.




Напиши цифры по пунктирным линиям.





Задание №4.

Рисуем двумя руками.



Найди отличия




Урок 4. Число и цифра 3.

Задание №1. Нарисуй косточки абакуса.

1	0	2	1	3

Закрась число 3 на каждой спице абакуса.



Потренируйся писать цифры.

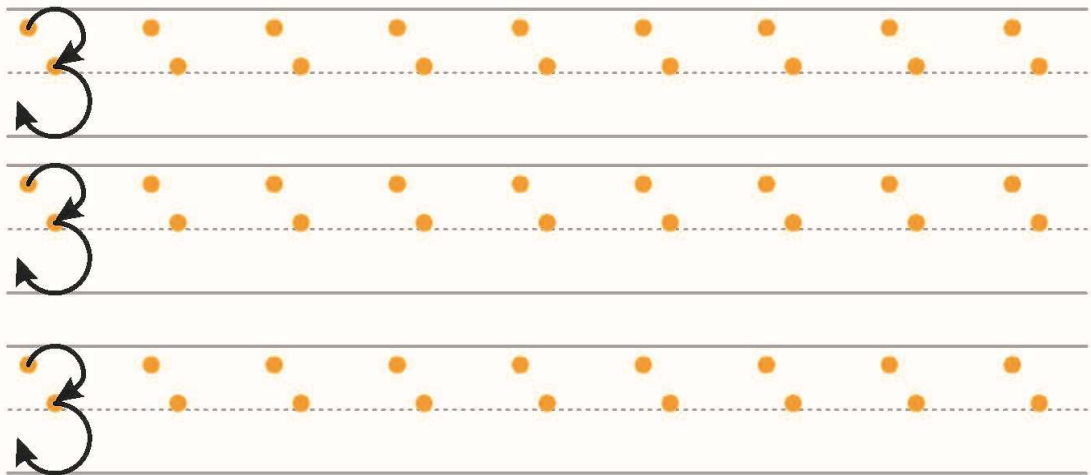
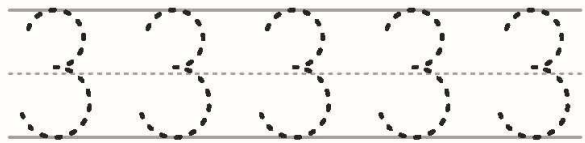
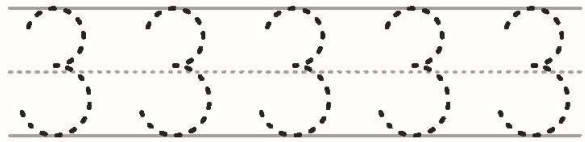
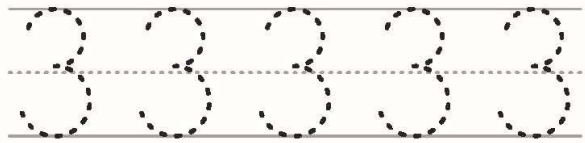
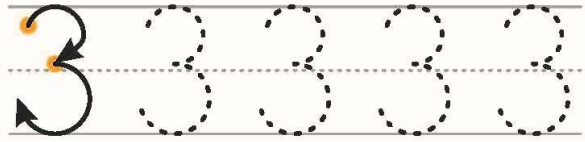
1	1	1	0	0	0	2	2	2	2
2	0	1	2	0	1	2	0	1	2



Задание №2. Заполни пропуски. Получишь таблицу умножения.




ТРИ




Задание №3. Реши примеры на абакусе.

3	2	1	1	0	3
-1	1	1	0	2	-2


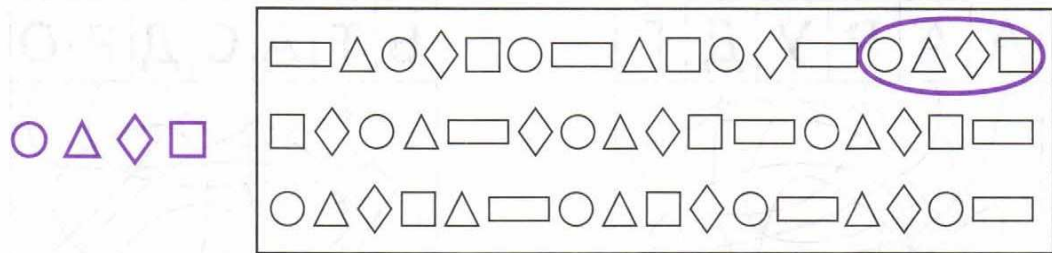
Найди все цифры 3 и раскрась их. Посчитай, сколько цифр у тебя получилось.




Напиши цифры по пунктирным линиям.



Задание №4.



Найди всех белочек и сосчитай их.




Урок 5. Число и цифра 4.

Задание №1. Нарисуй косточки на абакусе.

1	2	0	3	1

Закрась число 4 на каждой спице абакуса.



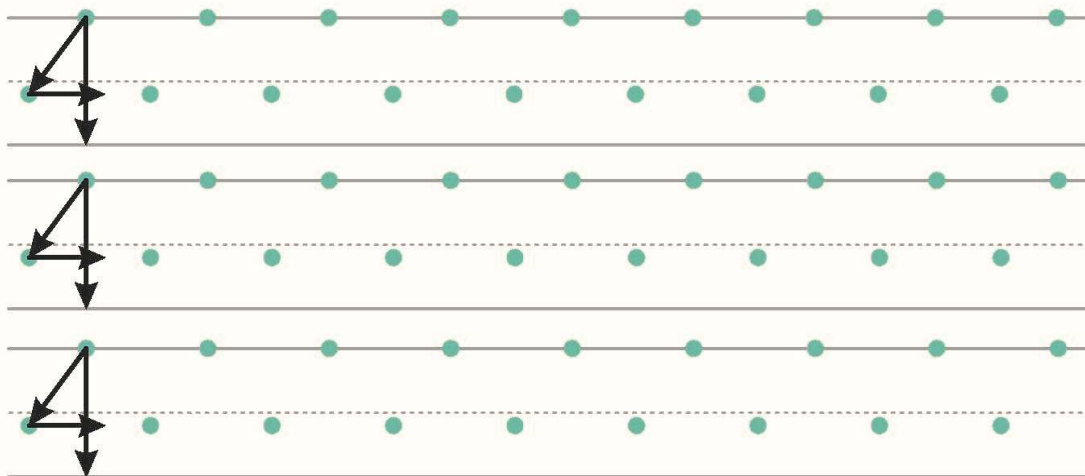
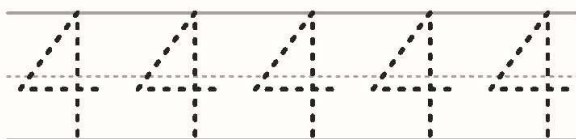
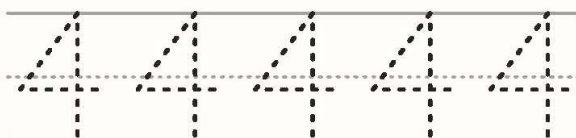
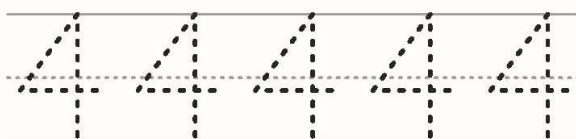
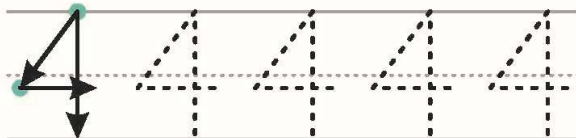

Потренируйся писать цифры.

3	3	3	3	3	3	3	3	3	3
3	0	1	2	3	0	1	2	3	3
3	0	1	3	1	2	3	0	2	3



Задание №2


ЧЕТЫРЕ



Задание №3. Реши примеры на абакусе.

3	2	2	4	4	3
-1	1	1	-2	-1	-2
-2	1	-2	1	-2	1

Найди все цифры **4** и раскрась их. Посчитай, сколько цифр у тебя получилось.



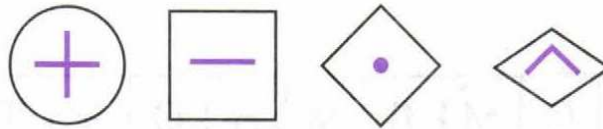
Напиши цифры по пунктирным линиям.

A writing practice area consisting of a grid of boxes. Each box is defined by a solid top and bottom line, a solid left and right line, and a dashed horizontal line in the middle. There are 10 such boxes in a single row.




Задание №4.

Расставь по образцу значки в геометрических фигурах.



Дорисуй рыбкам хвостики, бабочкам – усики, а улиткам – раковины.




Урок 6. Число и цифра 5.

Задание №1. Нарисуй косточки на абакусе.

0	1	2	3	4

Закрась число 5 на каждой спице абакуса.




Потренируйся писать цифры.

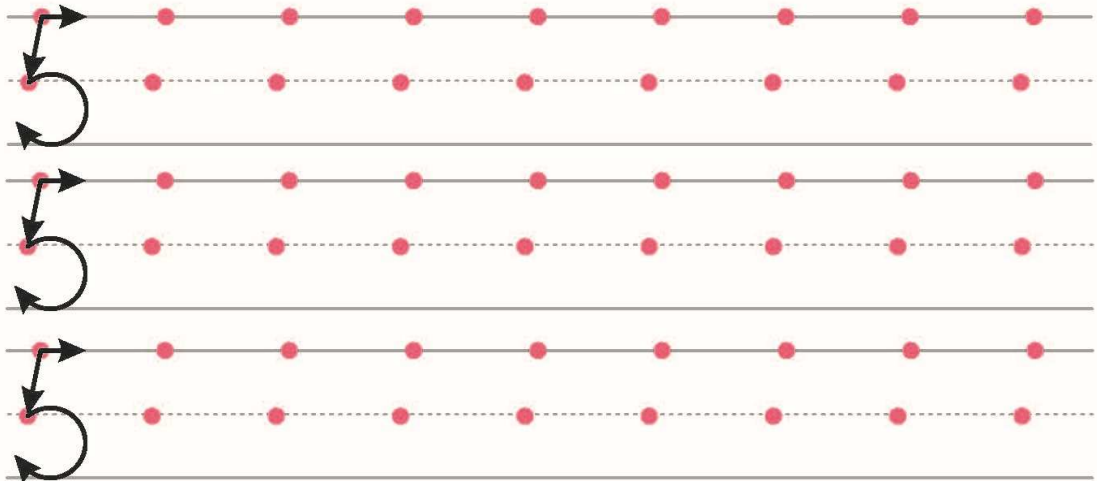
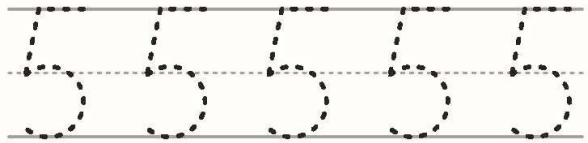
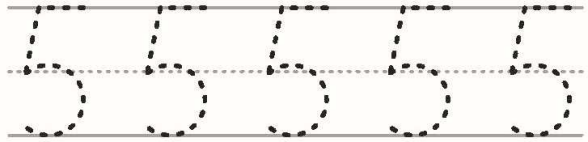
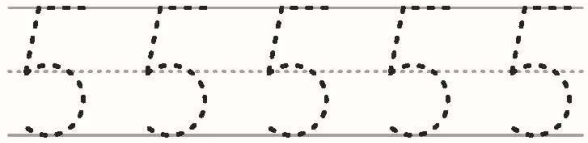
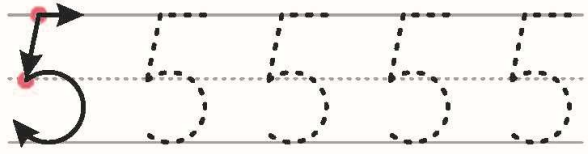
4	4	4	4	4	4	4	4	4	4
0	0	1	1	2	2	3	3	4	4
0	1	2	3	4	0	1	2	3	4



Задание №2. Реши примеры на абакусе.



ПЯТЬ



Задание №3.

Реши примеры на абакусе.

3	2	3	4	4	3
1	-1	-1	-2	-2	-2
-2	1	-2	1	-2	1

4	2	3	4	4	3
-1	1	-1	-2	-2	-2
-2	-2	2	1	-2	1


Реши примеры на ментальной карте.

3	2	3	4	4	3
-2	-1	-2	-2	-2	-1
2	1	1	2	-2	1

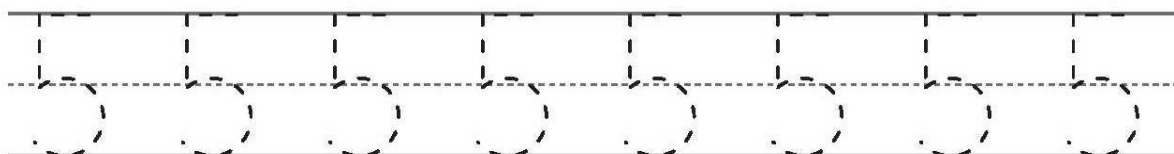
3	2	3	4	4	3
1	-1	1	-1	-2	-2
-2	3	-2	-2	-1	1



Задание №4. Найди все цифры 5 и раскрась их. Посчитай, сколько цифр у тебя получилось.



Напиши цифры по пунктирным линиям.

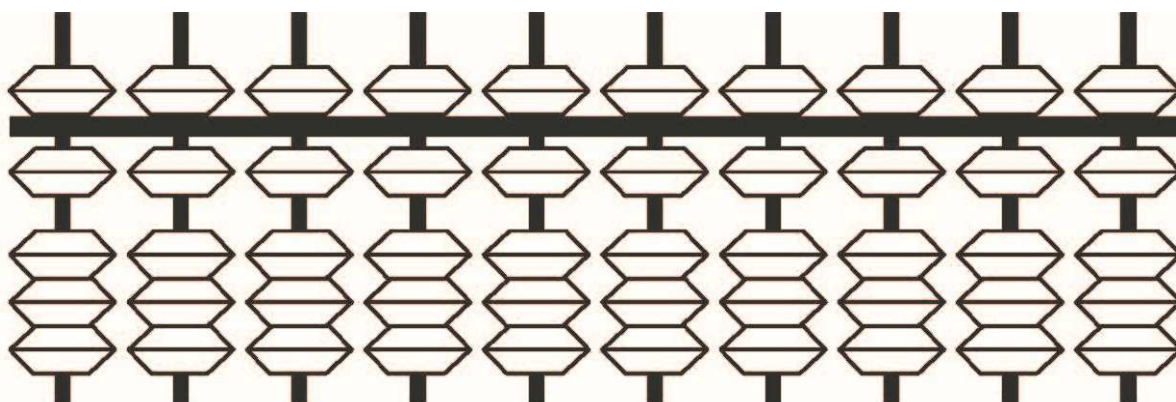


Урок 7. Число и цифра 6.

Задание №1. Нарисуй косточки на абакусе.

1	5	2	3	4

Закрась число 6 на каждой спице абакуса.



Потренируйся писать цифры.

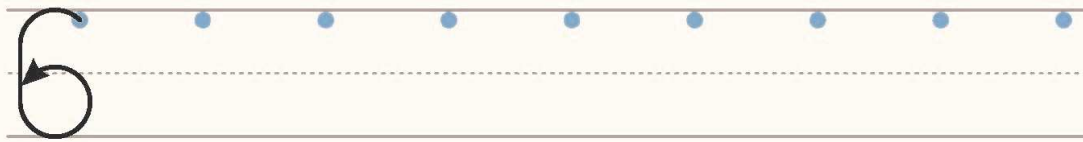
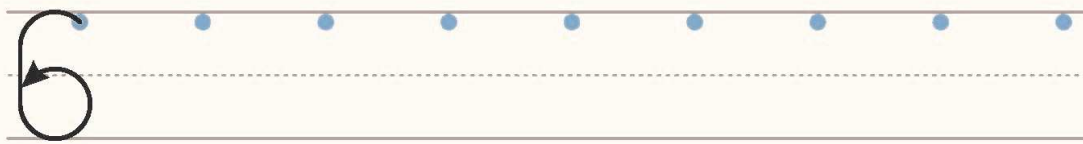
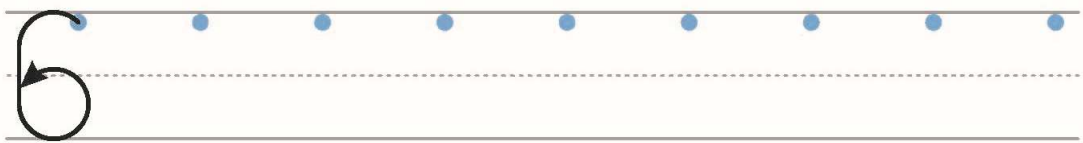
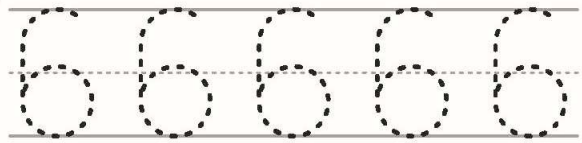
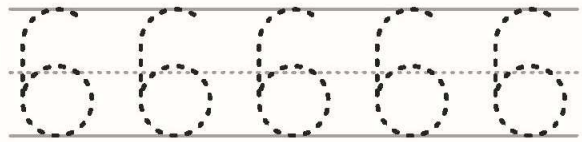
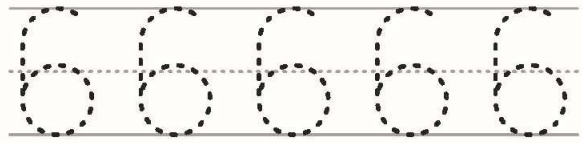
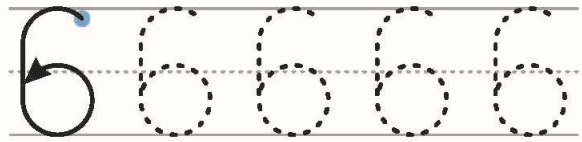
5	5	5	5	5	5	5	5	5	5
0	5	1	5	2	5	3	5	4	5



Задание №2.



ШЕСТЬ



Задание №3.

Реши примеры на абакусе.

4	6	4	4	4	3
-1	-1	-1	-2	-2	-2
-2	1	-2	1	-2	1

5	4	1	2	4	1
1	-1	5	2	-2	3


Реши примеры на ментальной карте.

3	2	3	4	4	3
-1	-1	1	-2	-2	-2
-2	1	-2	2	-2	-1

1	2	5	4	4	3
5	-1	1	-1	-2	-2



Задание №4. Раскрась сначала прямоугольники жёлтым карандашом, затем оставшиеся четырёхугольники – зелёным, а треугольники - синим. Скажи, что изображено на этом рисунке.




Урок 8. Число и цифра 7.

Задание №1. Нарисуй косточки на абакусе.

1	5	2	3	6

Закрась число 7 на каждой спице абакуса.

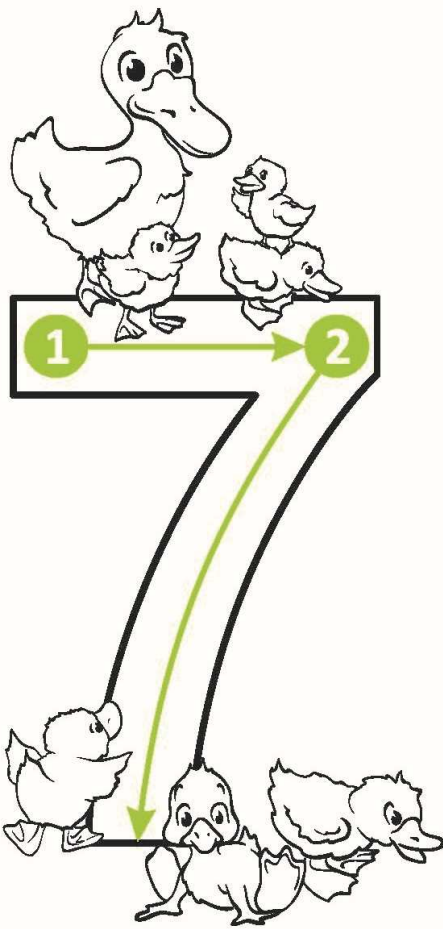


Потренируйся писать цифры.

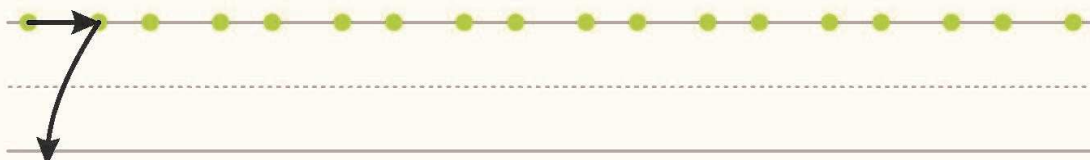
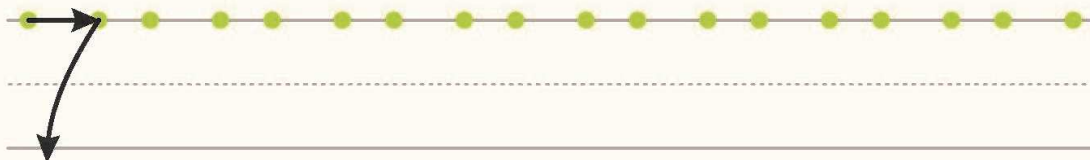
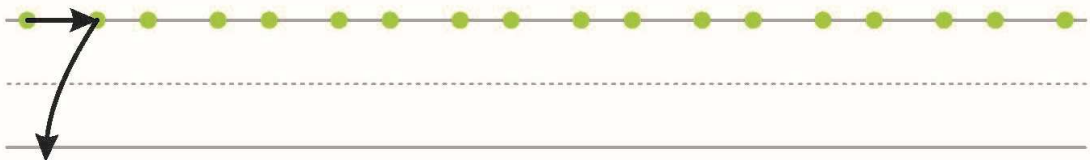
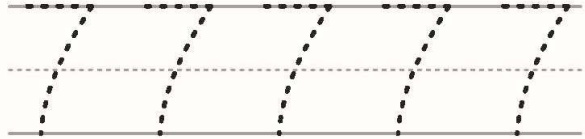
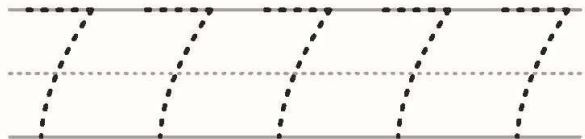
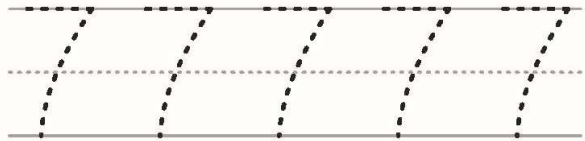
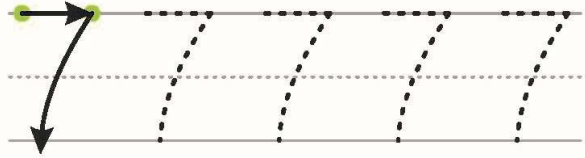
6	6	6	6	6	6	6	6	6	6
6	6	0	1	2	3	4	5	6	6



Задание №2. Реши примеры на абакусе.



СЕМЬ



Задание №3.

Реши примеры на абакусе.

4	6	4	5	4	3
-1	1	-1	1	-2	-2
-3	-1	-2	-1	2	-1

5	1	5	2	7	6
1	5	2	5	-2	-1

Реши примеры на ментальной карте.

3	2	3	4	4	3
1	1	-1	-2	-2	-2
-2	1	2	-2	2	-1

1	5	5	7	6	7
5	2	1	-1	-1	-2




Задание №4.

**Найди одинаковые вазы.
Раскрась их одинаковым цветом**



**Раскрась половину вагонов одним цветом,
а вторую половину другим**

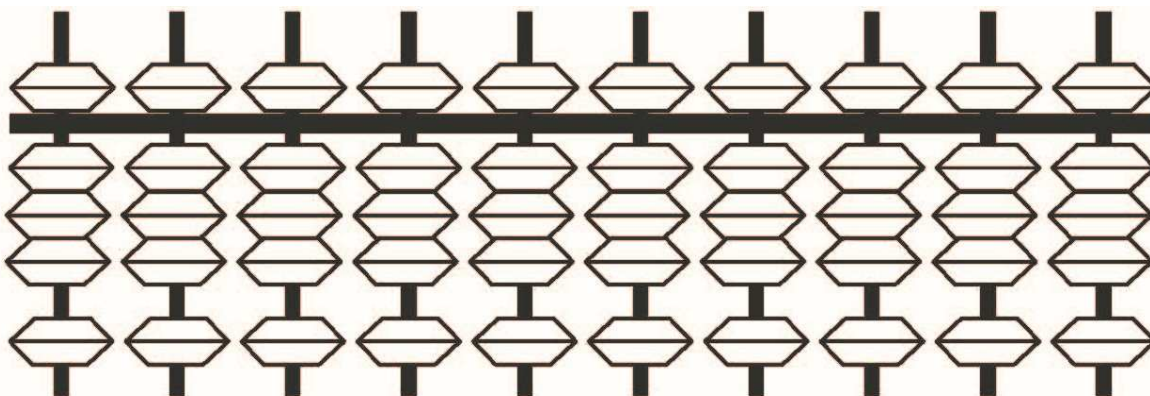


Урок 9. Число и цифра 8.

Задание №1. Нарисуй косточки на абакусе.

4	5	7	3	6

Закрась число **8** на каждой спице абакуса.




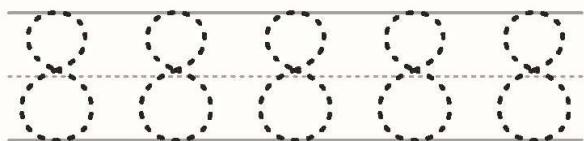
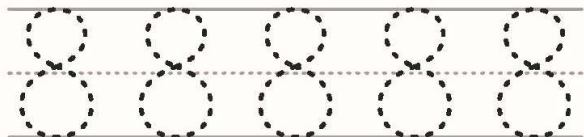
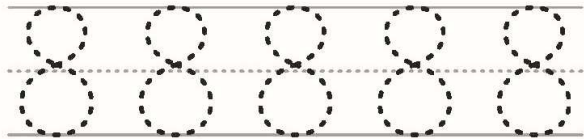
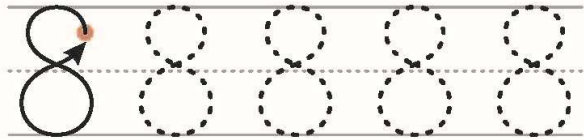

Потренируйся писать цифры.

7	7	7	7	7	7	7	7	7	7
7	0	7	1	7	2	7	3	7	4



Задание №2. Реши примеры на абакусе.

ВОСЕМЬ



Задание №3.

Реши примеры на абакусе.

6	5	4	5	4	8
-1	2	-1	2	-2	-2
2	-1	-3	1	5	-1

5	2	5	3	8	8
1	5	2	5	-7	-6

Реши примеры на ментальной карте.


5	5	8	5	8	5
1	1	-1	3	-5	2
2	1	-2	-1	-2	1

1	5	5	8	8	8
5	2	3	-1	-5	-2



Задание №4.

Найди 10 отличий

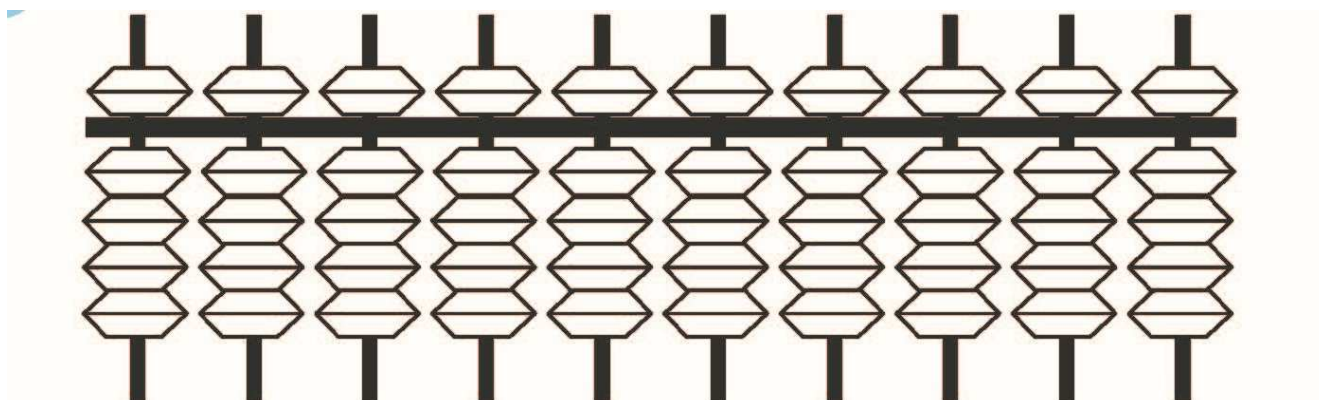


Урок 10. Число и цифра 9.

Задание №1. Нарисуй косточки на абакусе.

3	5	7	8	6

Закрась число 9 на каждой спице абакуса.




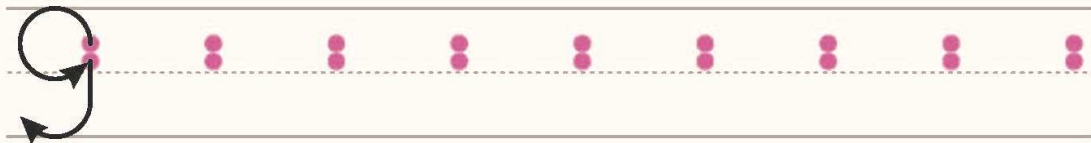
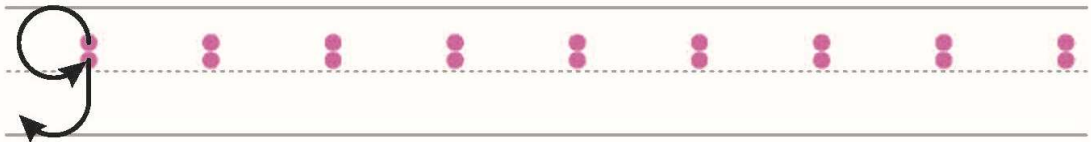
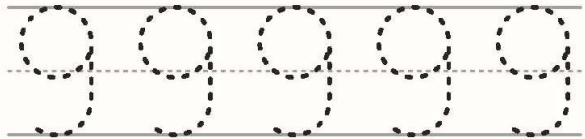
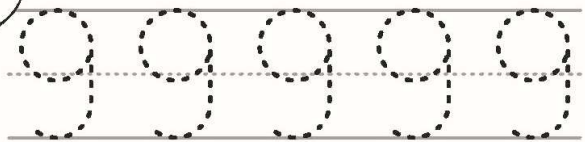
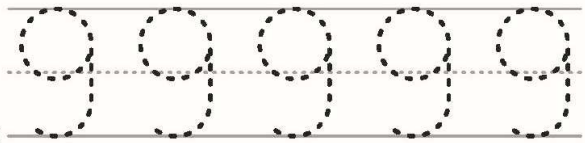
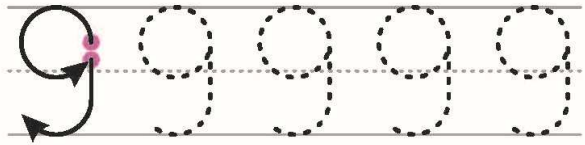

Потренируйся писать цифры.

8	8	8	8	8	8	8	8	8	8
8	0	1	2	3	4	5	6	7	8



Задание №2.

ДЕВЯТЬ



Задание №3.

Реши примеры на абакусе.

8	9	8	5	5	9
1	-2	1	2	3	-1
-4	-1	-3	2	1	-1

8	9	7	9	9	8
-6	-7	-6	-5	-6	-7

Реши примеры на ментальной карте.

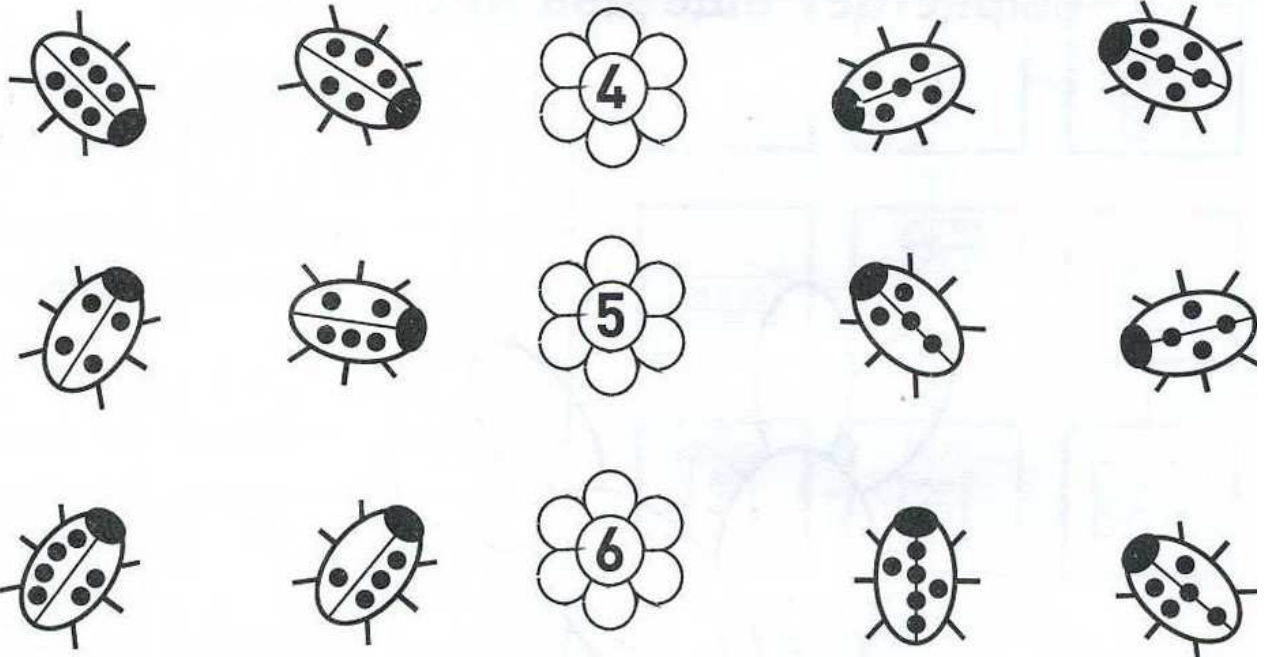
5	5	9	5	9	9
1	3	-1	4	-5	-1
3	1	-2	-1	-1	-1

4	5	5	9	9	9
5	4	3	-1	-5	-2

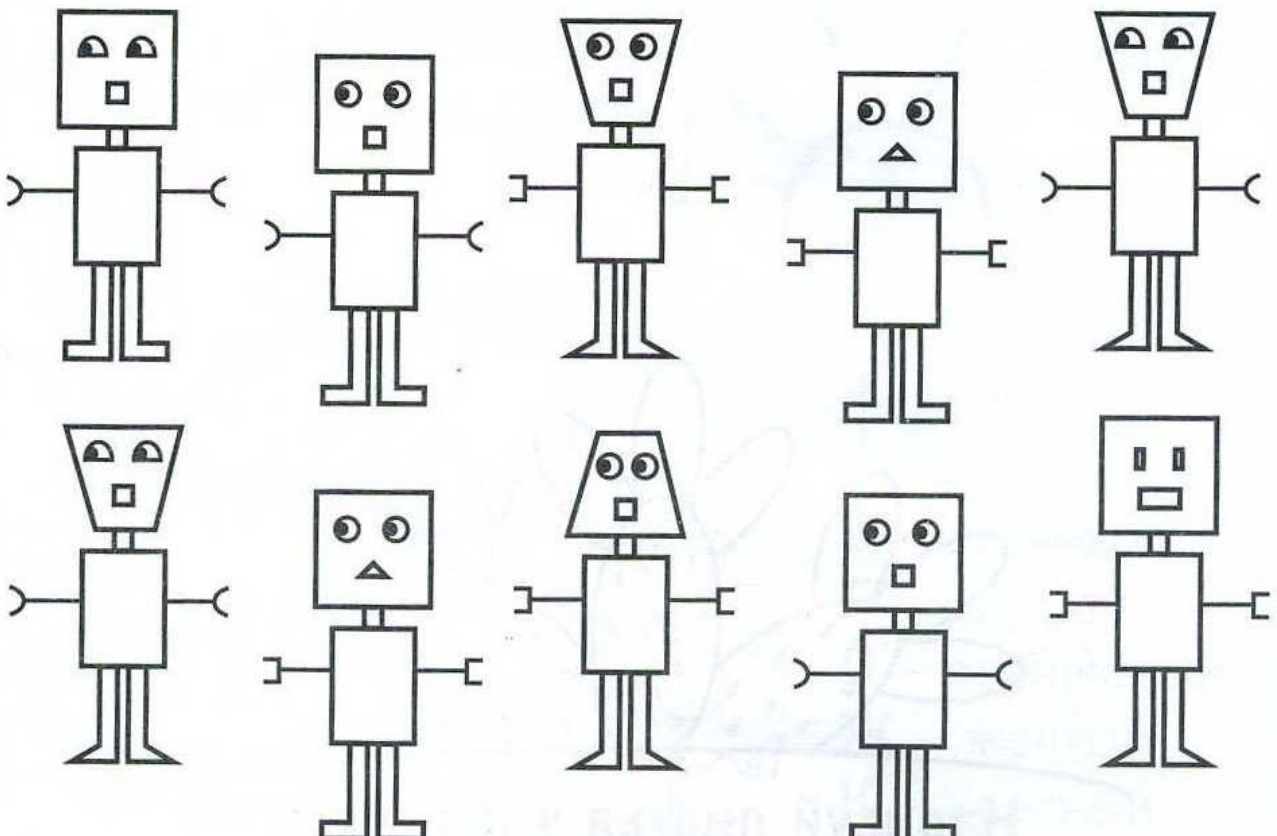


Задание №4.

Посади жучков на цветы



Закрась одинаковых роботов

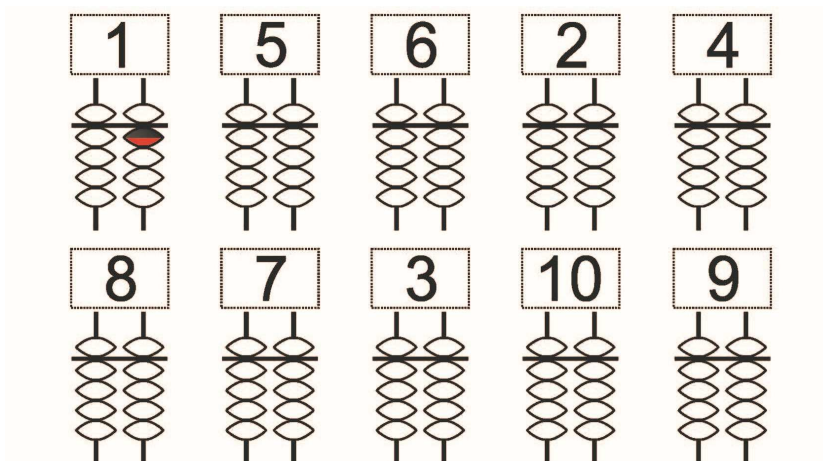


Урок 11. Число 10.

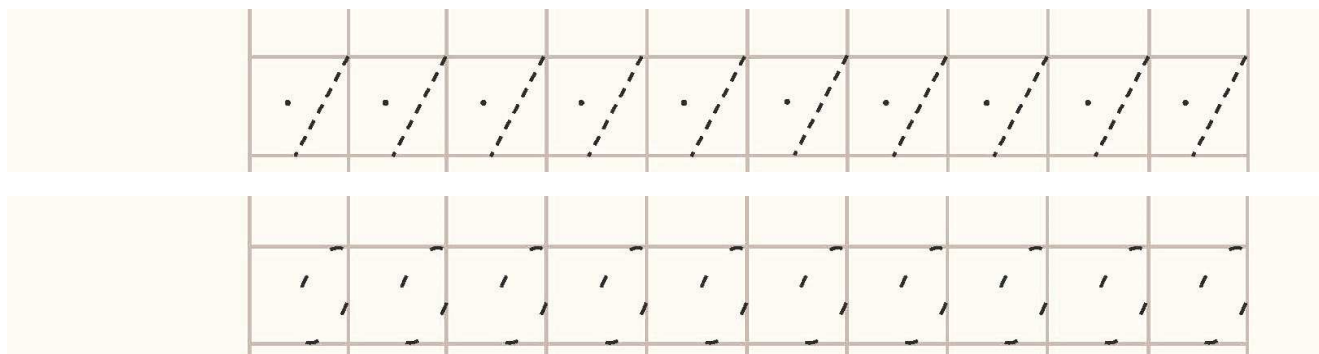
Задание №1. Нарисуй косточки на абакусе.

9	5	7	8	4

Закрась косточки на абакусе

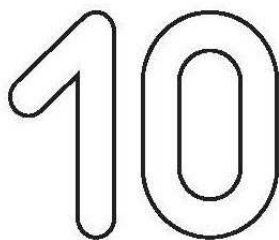


Потренируйся писать цифры

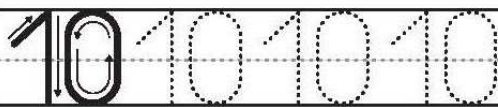


Задание №2.

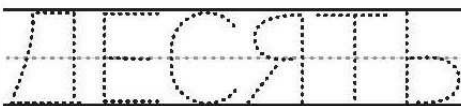
Раскрась число 10



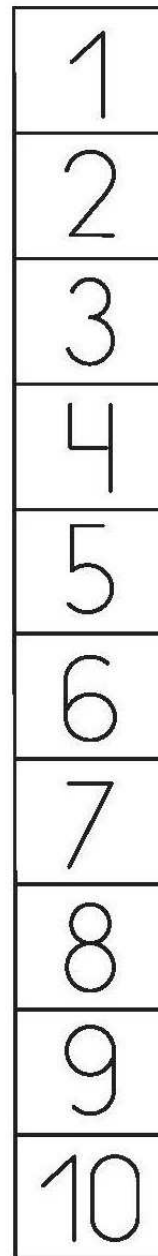
Обведи и напиши число 10




Напиши слово




Найди число 10 и обведи его




Нарисуй 10 точек на кости домино



Найди все кружочки с числом 10 и раскрась их



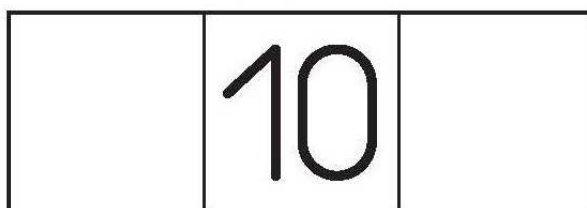
Раскрась 10 предметов



Найди и раскрась число 10



Перед и после



Задание №3.

Реши примеры на абакусе.

10	10	10	10	10	10
6	7	6	5	3	4

10	10	10	10	10	10
4	2	1	2	3	5
-3	-1	3	2	1	4

Реши примеры на ментальной карте.

10	10	10	10	10	10
5	4	3	1	6	2

10	10	10	10	10	10
1	2	3	2	1	1
1	2	1	1	2	3




Задание №4.

Вася, Олег и Дима клеили открытки.

У Васи наклейки  ,

у Олега  , а у Димы  


Кто клеил эти открытки? Обведи!



Вася

Олег

Дима



Вася

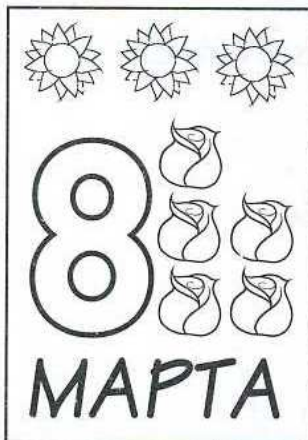
Олег

Дима

Вася

Олег



Дима



Вася

Олег


Дима



Вася

Олег

Дима



Вася

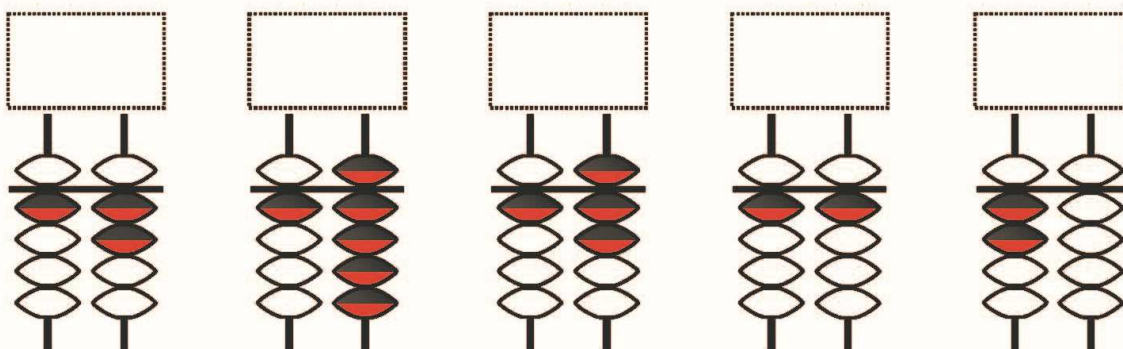
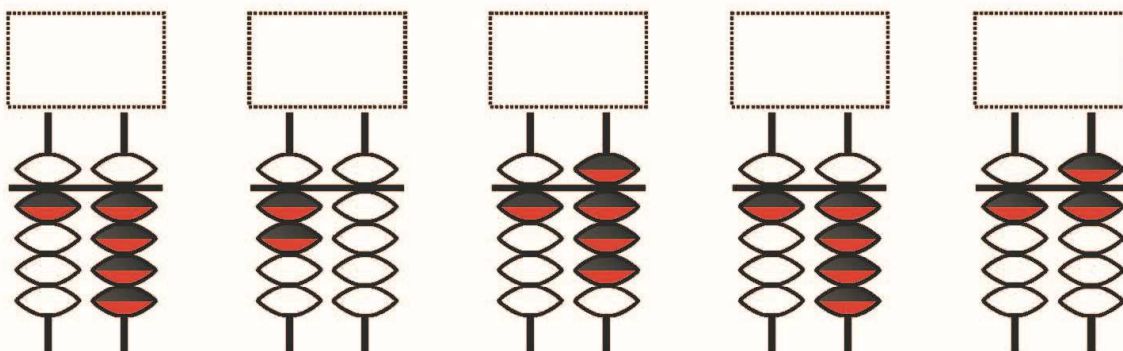
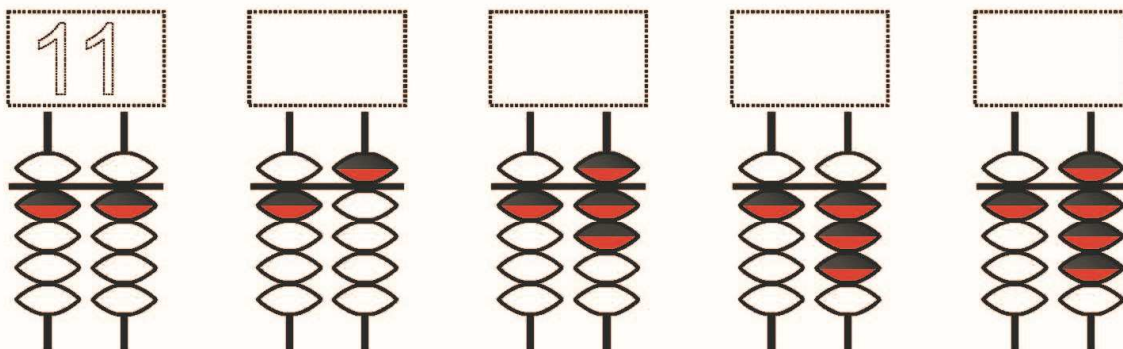
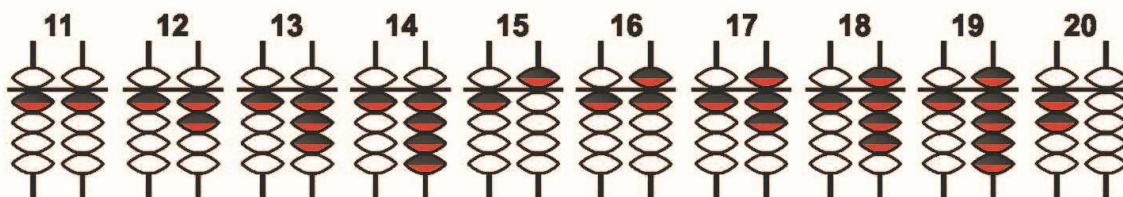
Олег

Дима



Урок 12. Числа от 10 до 20.

Задание №1.



Задание №2.

Напиши по пунктиру слово «ОДИНАДЦАТЬ» и число «11»

ОДИНАДЦАТЬ
11 11 11 11 11 11 11

Напиши по пунктиру слово «ДВЕНАДЦАТЬ» и число «12»

ДВЕНАДЦАТЬ
12 12 12 12 12 12 12

Напиши по пунктиру слово «ТРИНАДЦАТЬ» и число «13»

ТРИНАДЦАТЬ
13 13 13 13 13 13 13

Напиши по пунктиру слово «ЧЕТЫРНАДЦАТЬ» и число «14»

ЧЕТЫРНАДЦАТЬ
14 14 14 14 14 14 14



Задание №3.

Реши примеры на абакусе.

10	11	12	13	14	14
6	7	6	5	-3	-4

10	11	12	13	14	11
3	2	1	1	-3	5
-2	-1	1	-2	1	2

Реши примеры на ментальной карте.

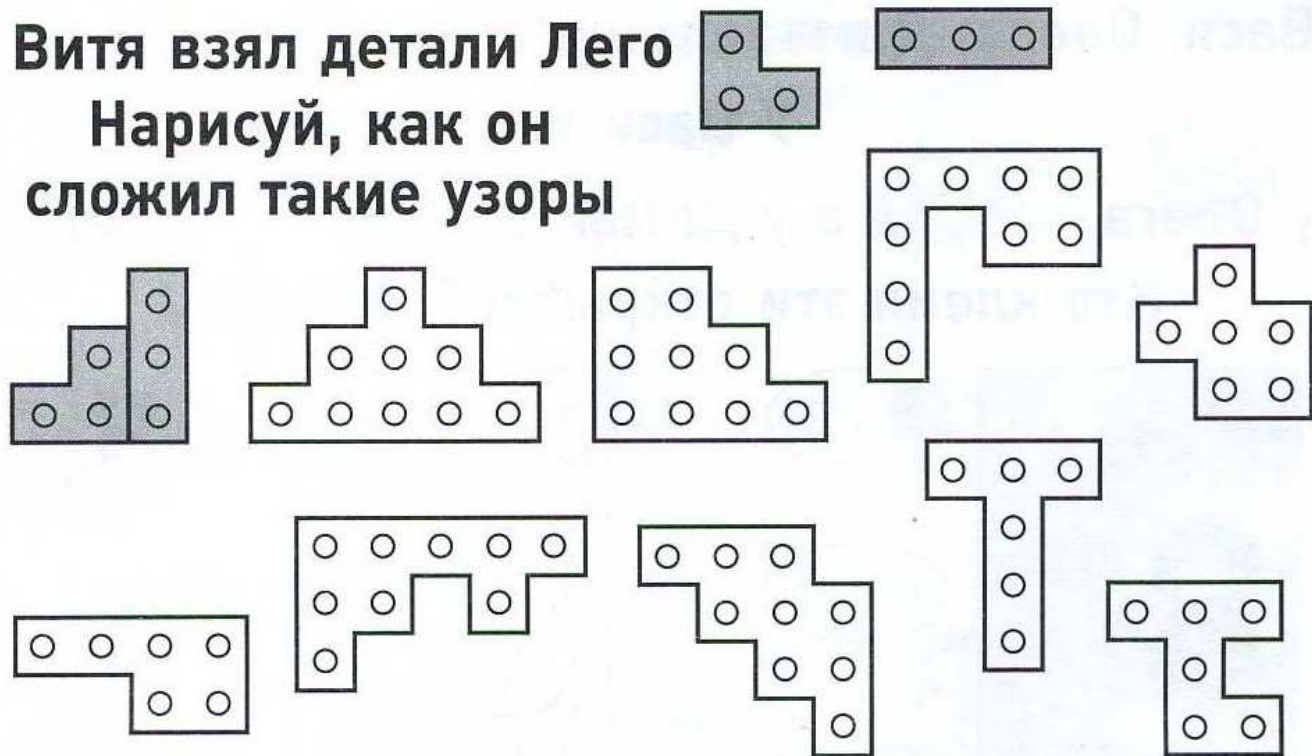
11	12	11	12	13	11
5	2	3	1	5	2

11	12	13	14	11	12
1	1	-3	-4	1	1
1	1	1	1	2	-2



Задание №4.

Витя взял детали Лего
Нарисуй, как он
сложил такие узоры



Помоги птичке найти её домик



Урок 13. Числа от 10 до 20.

Задание №1. Нарисуй косточки на абакусе.

8	4	2	1	5

10	11	12	13	14



Упражнение №2.

Напиши по пунктиру слово «ПЯТНАДЦАТЬ» и число «15»

ПЯТНАДЦАТЬ
15 15 15 15 15 15 15

Напиши по пунктиру слово «ШЕСТНАДЦАТЬ» и число «16»

ШЕСТНАДЦАТЬ
16 16 16 16 16 16 16

Напиши по пунктиру слово «СЕМНАДЦАТЬ» и число «17»

СЕМНАДЦАТЬ
17 17 17 17 17 17 17

Напиши по пунктиру слово «ВОСЕМНАДЦАТЬ» и число «18»

ВОСЕМНАДЦАТЬ
18 18 18 18 18 18 18



Задание №3.

Реши примеры на абакусе.

14	15	16	17	18	16
-4	-5	-6	-7	-8	-1

15	14	16	18	15	12
3	-2	1	1	3	5
-2	-1	1	-2	1	2

Реши примеры на ментальной карте.

















15	16	17	18	14	13
-5	-6	-7	-8	-4	-3

15	16	17	18	14	13
1	1	-7	-8	-4	-3
1	1	1	1	2	2



Задание №4.

Заполни таблицы

				
	2			
	5			
	4			
	0			
				
				
				
				
				



Урок 14. Числа от 10 до 20.

Задание №1. Нарисуй косточки на абакусе.

6	5	3	2	9

11	15	17	20	19



Задание №2.

Напиши по пунктиру слово «СЕМНАДЦАТЬ» и число «17»

СЕМНАДЦАТЬ
17 17 17 17 17 17 17

Напиши по пунктиру слово «ВОСЕМНАДЦАТЬ» и число «18»

ВОСЕМНАДЦАТЬ
18 18 18 18 18 18 18

Напиши по пунктиру слово «ДЕВЯТНАДЦАТЬ» и число «19»

ДЕВЯТНАДЦАТЬ
19 19 19 19 19 19 19

Напиши по пунктиру слово «ДВАДЦАТЬ» и число «20»

ДВАДЦАТЬ
20 20 20 20 20 20 20



Задание №3.

Реши примеры на абакусе.

19	18	19	18	17	15
-4	-5	-6	-7	-5	-5

10	15	18	19	17	10
3	2	1	-1	2	5
-2	-5	-4	-2	-1	4

Реши примеры на ментальной карте.

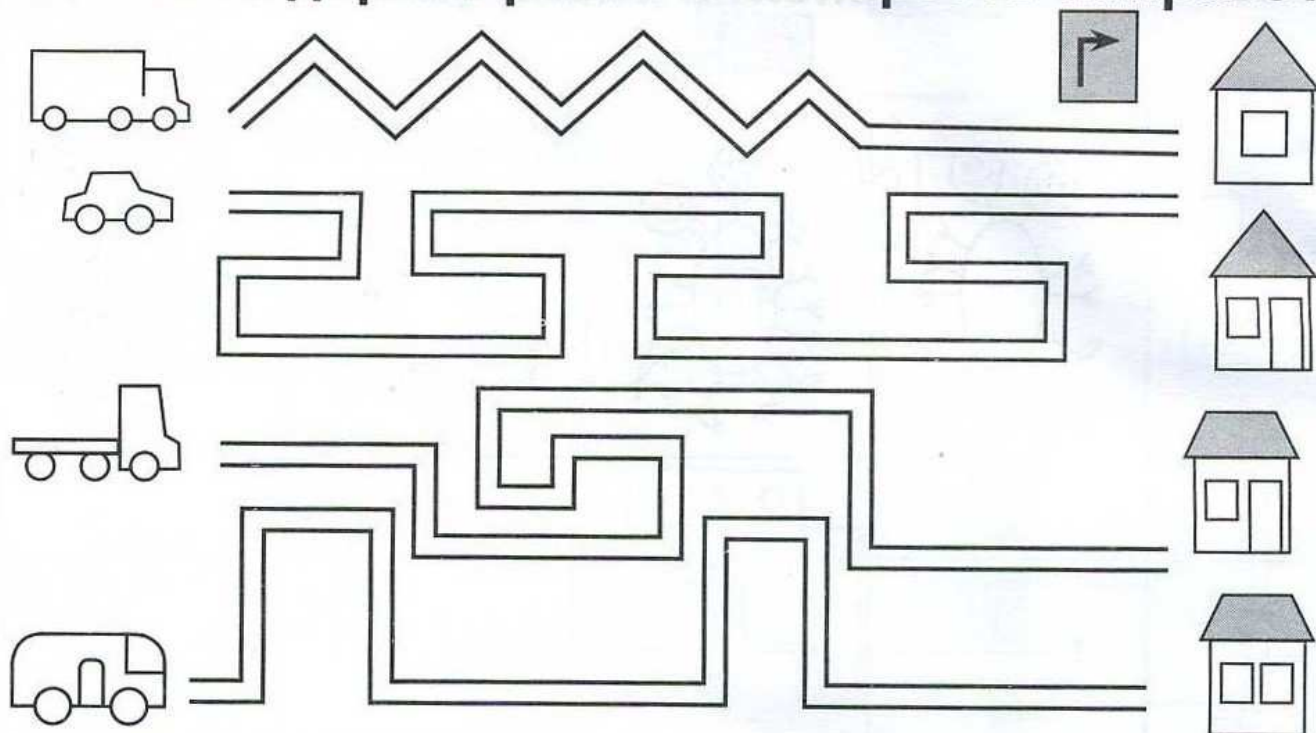
15	16	17	18	19	20
-10	-10	-10	-10	-10	-10

10	16	19	13	14	13
1	-6	-9	-3	-4	-3
8	1	1	1	3	4



Задание №4.

На какой дороге ровно 5 поворотов направо?



Сколько в гараже машин каждого вида?

	2			
	3			
	4			
	0			
	1			



Урок 15. Числа от 10 до 20.


Задание №1.

13	17	20	19	15
11	12	16	18	14
20	13	16	17	15
11	20	17	19	12



Задание №2.

Заполни пропуски соответствующими числами до 10 или до 20. Раскрась.



Задание №3.

Реши примеры на абакусе.

14	19	6	14	13	11	12	13
-4	-5	-5	-3	5	7	5	6

10	15	18	19	17	10	12	15
3	2	1	-1	2	5	2	3
5	2	-5	-3	-9	4	-3	-2

Реши примеры на ментальной карте.

12	13	14	15	16	17	18	19
-10	-10	-10	-10	-10	-10	-10	-10

10	16	19	13	14	13	15	18
1	-6	-9	-3	-4	-3	-5	-8
1	2	3	4	5	6	7	9




Задание №4.

Собери по пути из дома в замок 2 цветочка и 3 гриба разными способами



Найди тень от каждого цветка или букета



Урок 16. Числа от 20 до 30.



Задание №1. Нарисуй косточки на абакусе.

20	21	22	23	24

25	26	27	28	29



Задание №2. Помоги белочке найти орех. Нарисуй стрелки или зарисуй все квадраты по порядку от одного до двадцати и проложи путь к ореху.

			2	12	13	19	15	18
			1	11	12	20	16	17
			2	9	10	14	10	9
3	1	4	3	8	11	13	20	19
5	2	5	10	11	12	14	16	15
6	8	6	7	10	13	15	20	18
9	7	5	8	9	14	15	18	19
11	9	8	12	19	13	16	17	20
13	11	10	14	17	20			
15	13	12	16	18	19			
17	15	16	18	19	20			



Задание №3.

Реши примеры на абакусе.

21	22	23	24	20	20	20	20
-1	-2	-3	-4	5	6	7	8

10	15	18	19	17	10	12	15
10	2	10	10	10	10	10	10
5	10	-5	-3	-2	4	-2	2

Реши примеры на ментальной карте.

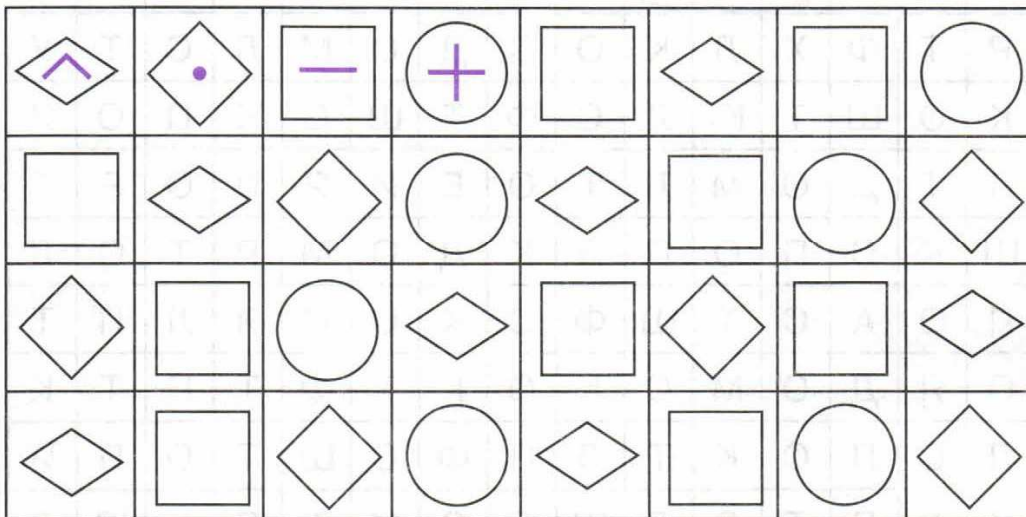
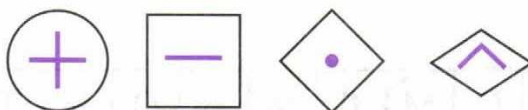
20	21	22	23	24	25	26	27
-10	-10	-10	-10	-10	-10	-10	-10

10	10	10	10	10	10	10	10
10	10	10	10	10	10	10	10
1	2	3	4	5	6	7	8

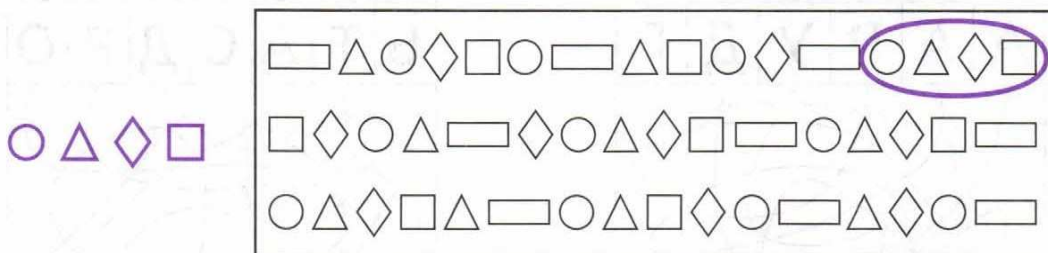



Задание №4.

Расставь по образцу значки в геометрических фигурах.

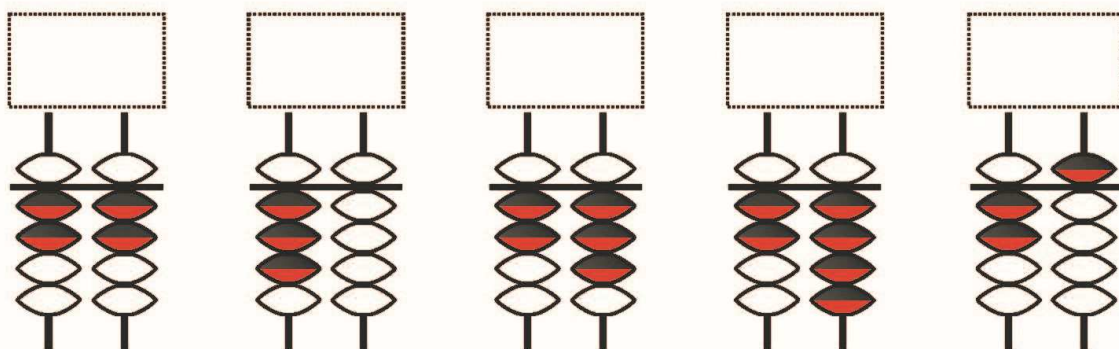
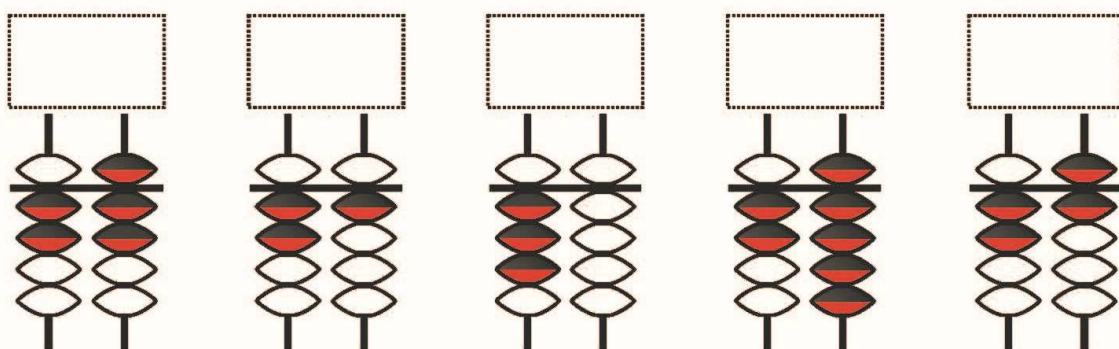
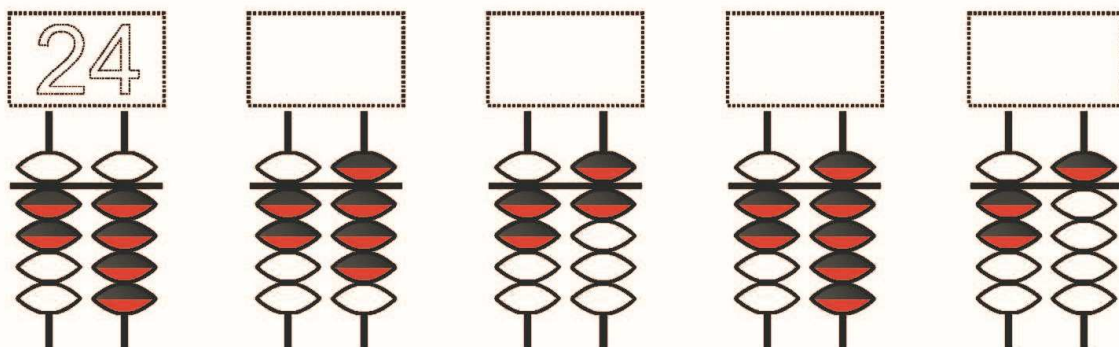
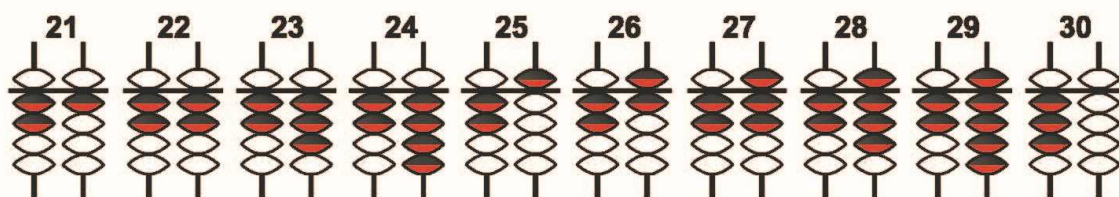


Дорисуй рыбкам хвостики, бабочкам – усики, а улиткам – раковины.



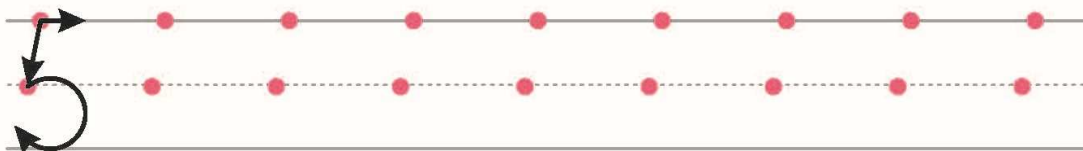
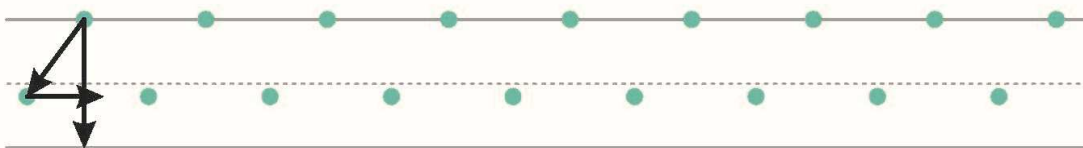
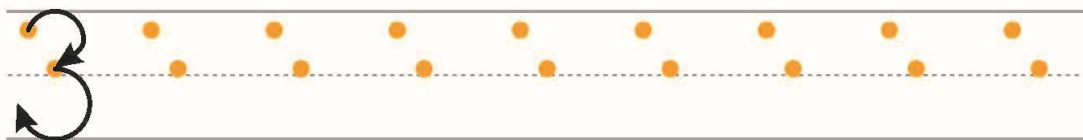
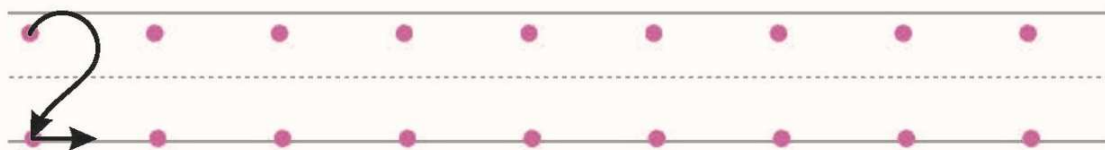


Урок 17. Числа от 20 до 30.

Задание №1. Посмотри на счёты и запиши соответствующее число.



Задание №2.



Задание №3.

Реши примеры на абакусе.

30	29	28	27	26	25	24	23
-10	-9	-8	-7	-6	-5	-4	-3

10	15	15	18	17	18	17	15
10	10	10	10	10	10	10	10
10	-25	-15	-3	-2	-2	-5	4

Реши примеры на ментальной карте.

30	30	25	23	24	25	26	27
-10	-20	-5	-3	5	2	2	2

10	10	10	10	10	10	10	10
10	10	15	11	12	13	16	18
10	-10	-5	-1	-2	-3	-6	-8



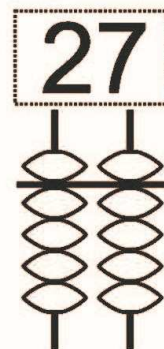
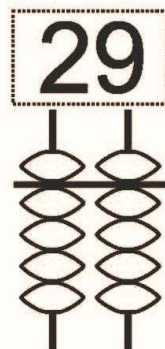
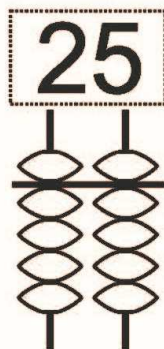
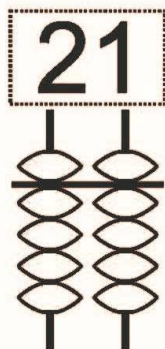
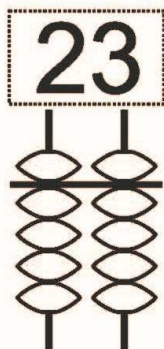
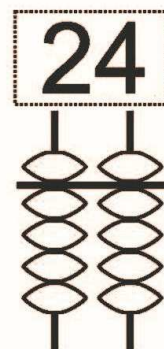
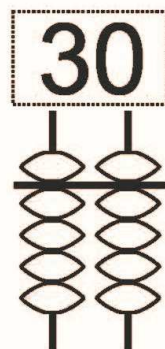
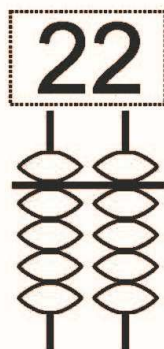
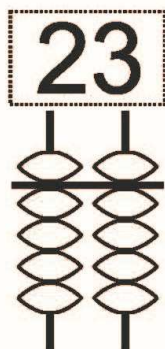
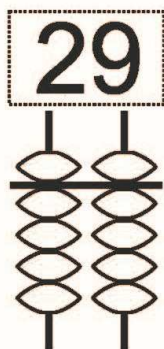
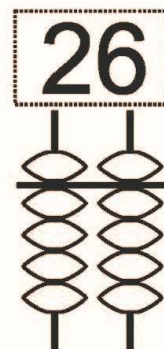
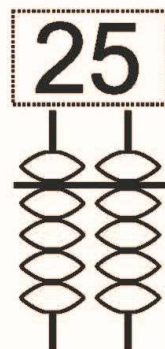
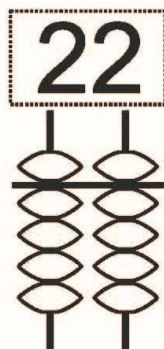
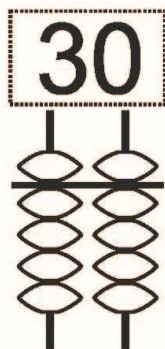
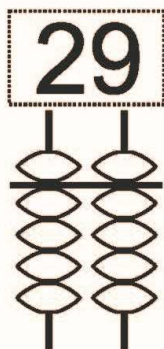
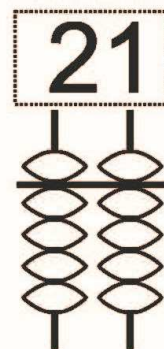
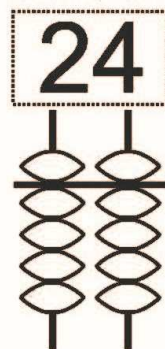
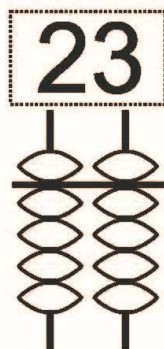
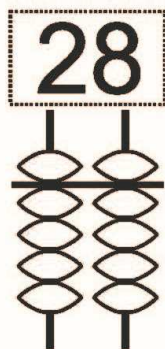
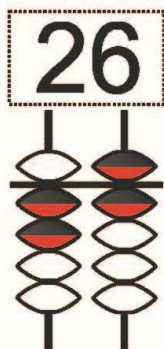
Задание №4. Зачеркни все буквы «Н», а все цифры «5» обведи в кружок.

А У Л 3 1 4 5 Н О
В Т Р К 2 7 1 4 П
У Н С 4 5 2 Д 6 Ш
Р Ш К 5 Т В Н У П
К Т Н 2 1 П Р Т У
В Н 5 1 Р К Н 8 5




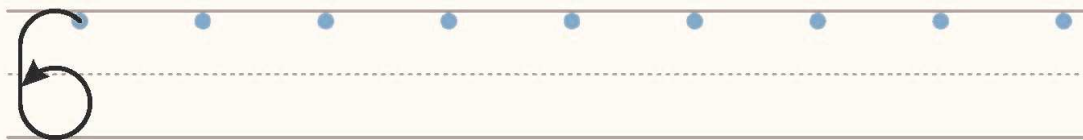
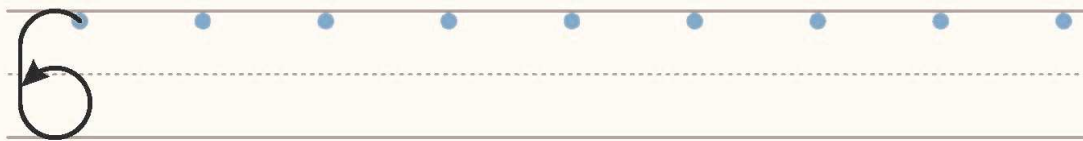


Урок 18. Числа от 1 до 30.

Задание №1. Раскрась необходимое количество бусинок на абакусе.



Задание №2.



Задание №3.

Реши примеры на абакусе.

23	21	24	27	26	25	24	23
5	3	5	-2	-16	2	-14	-13

10	15	18	12	17	18	17	15
10	10	10	-10	10	10	-5	4
9	-5	-3	2	-5	-8	10	10

Реши примеры на ментальной карте.

30	30	15	23	25	26	22	27
-20	-30	10	-13	4	2	5	-2



10	10	10	10	10	10	10	10
10	10	15	11	12	13	16	18
10	4	-10	-10	-10	-10	-10	-10





Задание №4. Сколько на рисунке чашек, листьев, ваз и яблок?

Сосчитай и напиши в пустых клеточках.



	—	<input type="text"/>
	—	<input type="text"/>

	—	<input type="text"/>
	—	<input type="text"/>



Урок 19. Числа от 1 до 40.

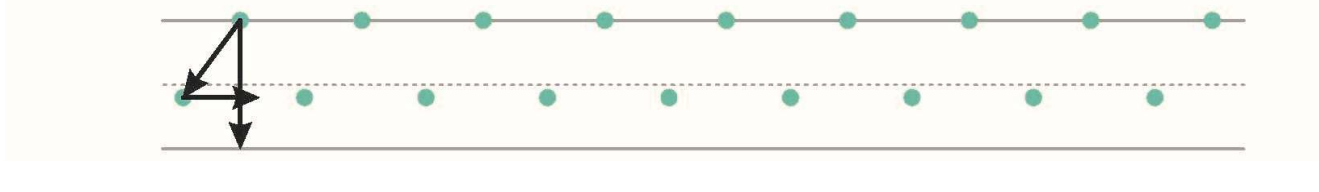
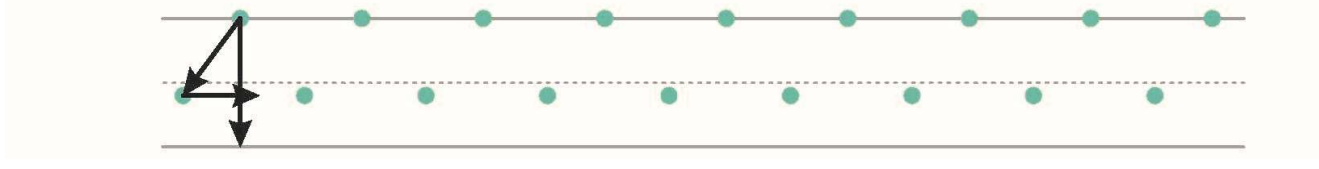
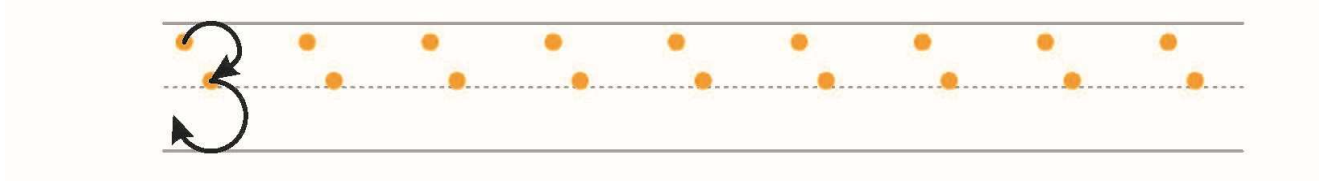
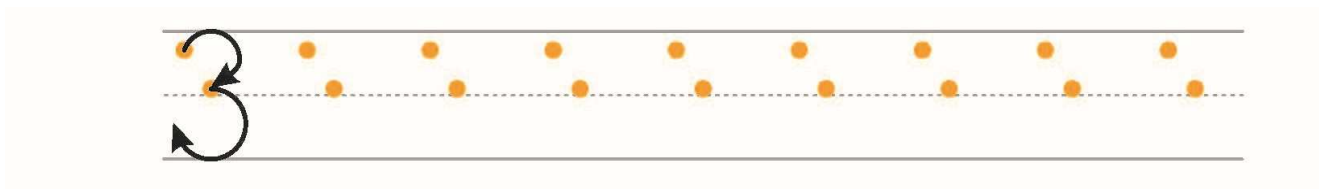
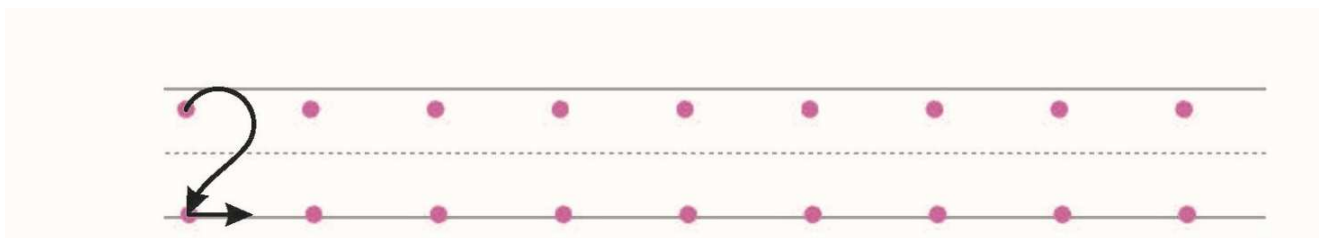
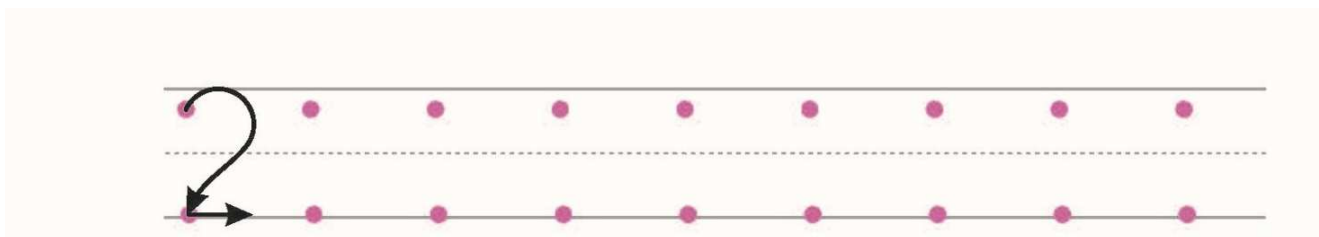
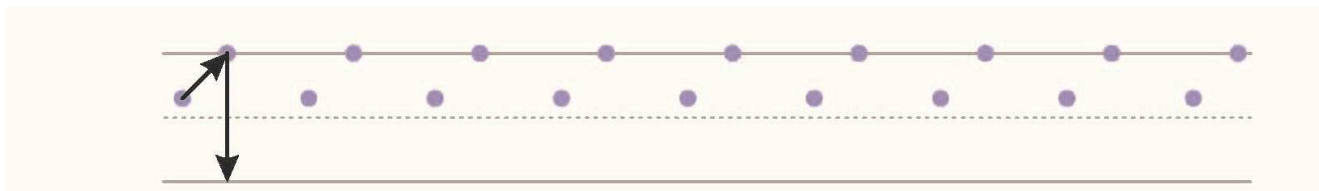
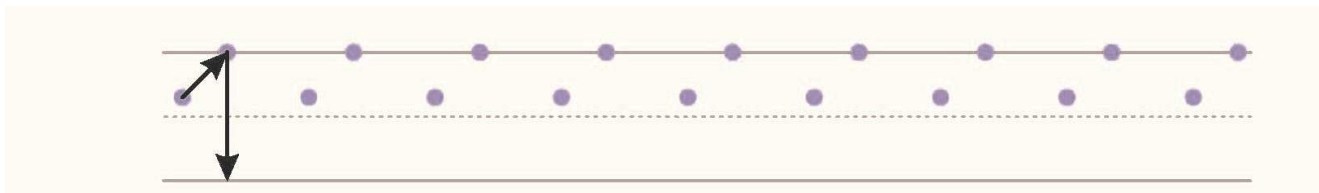
Задание №1. Нарисуй косточки на абакусе.

30	31	32	33	34

35	36	37	38	39



Задание №2.



Задание №3.

Реши примеры на абакусе.

30	30	30	30	30	30	30	30
5	3	4	6	7	9	2	1

20	20	20	20	20	20	20	20
10	10	10	10	10	10	10	10
1	2	3	4	5	6	7	8

Реши примеры на ментальной карте.

30	30	30	30	35	36	37	38
1	2	3	4	-5	-6	-7	-8

21	22	23	24	25	26	27	28
10	10	10	10	10	10	10	10
-1	-2	-3	-4	-5	-6	-7	-8

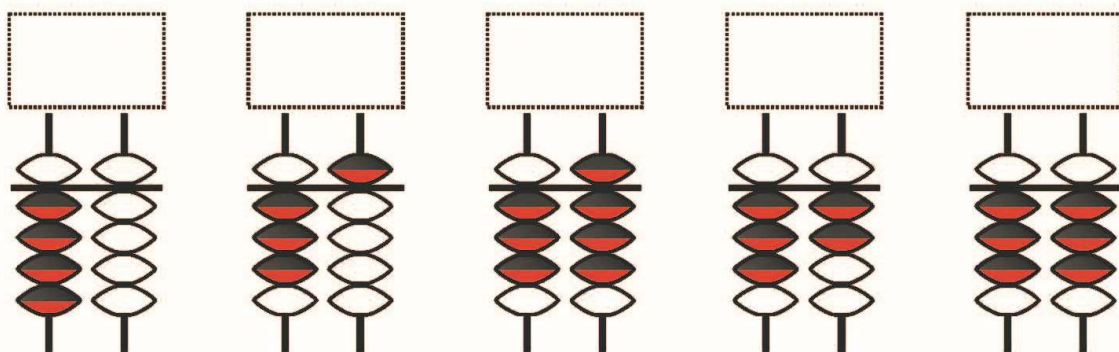
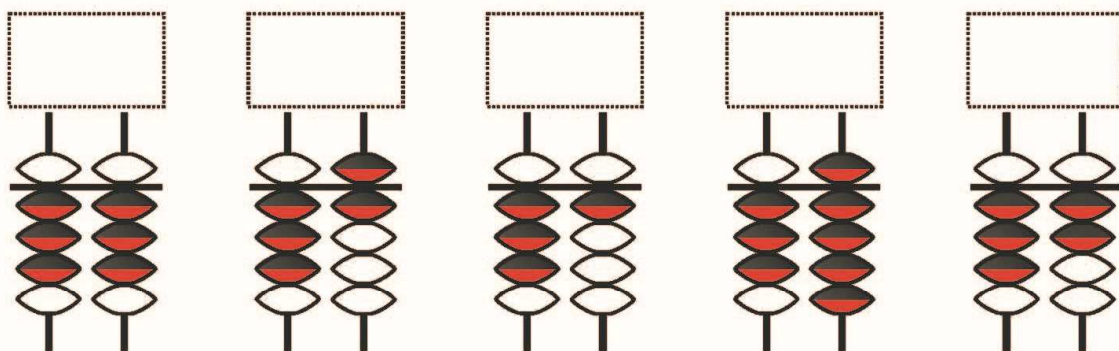
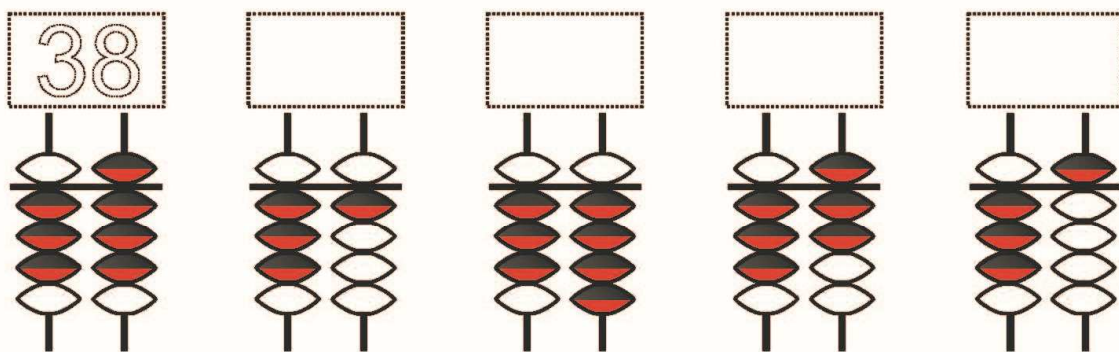
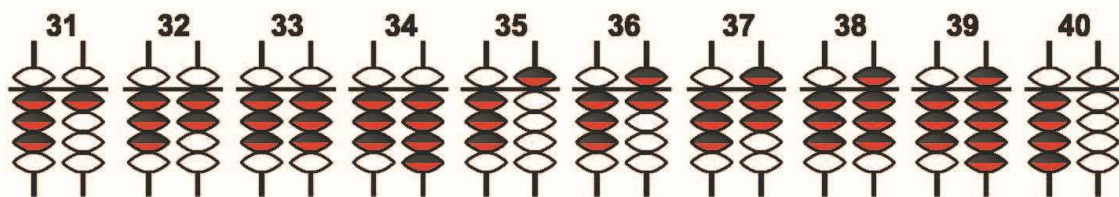


Задание №4. Найди на рисунке всех божьих коровок и раскрась их.





Урок 20. Числа от 1 до 40.

Задание №1. Посмотри на счеты и запиши соответствующее число.



Задание №2. Помоги мартышке найти бананы. Нарисуй стрелки или зарисуй все квадраты по порядку от одного до двадцати и проложи путь к бананам.

			2	12	13	19	15	18
			3	11	12	20	16	17
			1	2	10	14	10	9
1	4	3	4	3	11	13	20	19
2	3	4	5	11	12	14	16	15
8	6	8	6	7	13	15	20	18
19	7	5	9	8	17	18	18	19
11	9	8	10	9	16	19	20	11
13	11	13	11	12	15			
15	12	15	14	13	20			
17	13	16	17	18	19			



Задание №3.

Реши примеры на абакусе.

22	20	30	23	37	32	38	39
15	13	10	11	-17	-11	-22	-14

22	12	11	21	23	25	28	29
10	11	10	10	10	10	11	10
5	11	13	-11	-31	-35	-23	-15


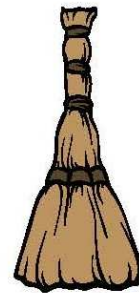


Реши примеры на ментальной карте.

21	22	20	25	35	36	37	38
11	12	13	14	-15	-16	-17	-18

30	22	23	24	25	26	27	28
10	10	10	10	10	10	10	10
-20	-22	-33	-24	-25	-26	-27	-28

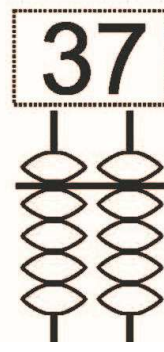
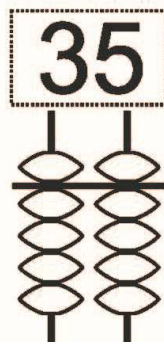
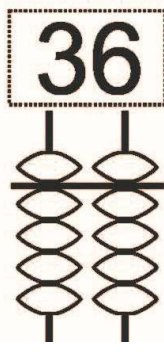
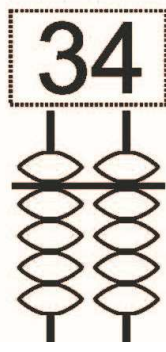
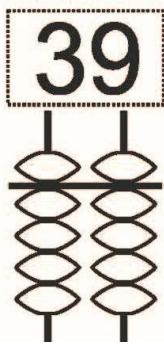
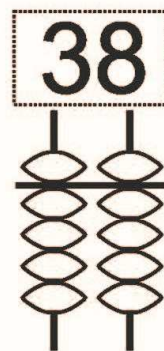
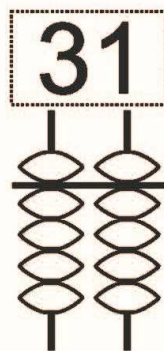
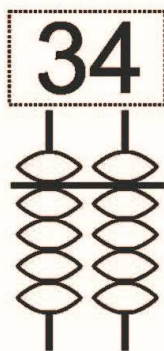
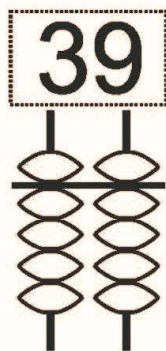
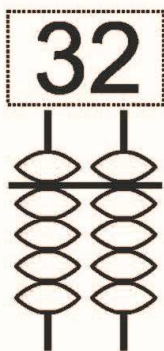
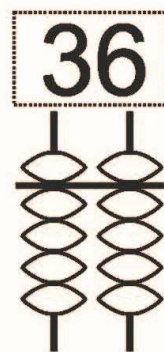
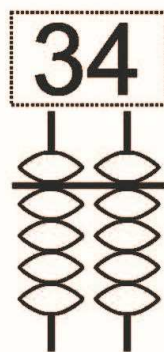
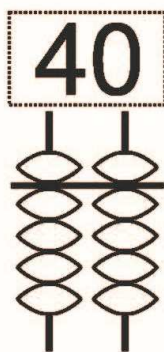
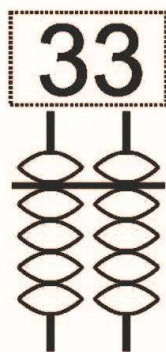
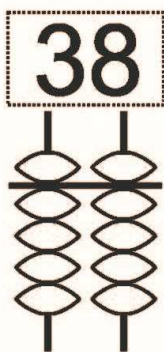
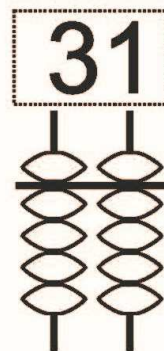
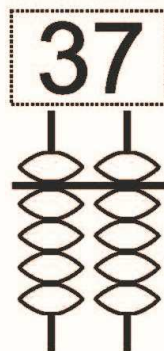
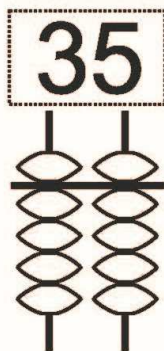
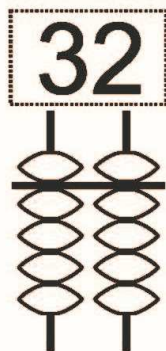
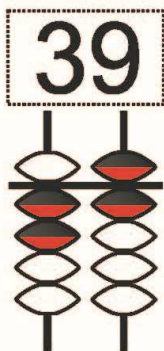


Задание №4. Найди предметы, которые подходят друг другу и образуют пару. Соедини их линией.




Урок 20. Числа от 1 до 40.

Задание №1. Раскрась необходимое количество бусинок на абакусе.



Задание №2. Напиши по порядку все числа от 1 до 25.



Задание №3.

Реши примеры на абакусе.

12	10	20	13	27	22	28	29
15	13	10	11	-17	-11	-22	-14

12	22	21	11	13	25	28	19
10	11	10	10	10	10	11	10
2	1	3	-11	-11	-15	-13	-15

Реши примеры на ментальной карте.


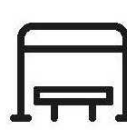










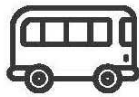
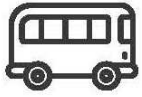
11	12	10	15	25	26	27	28
11	12	13	14	-15	-16	-17	-18

30	22	23	24	25	26	27	28
10	10	10	10	10	10	10	10
-30	-32	-13	-14	-15	-16	-17	-18



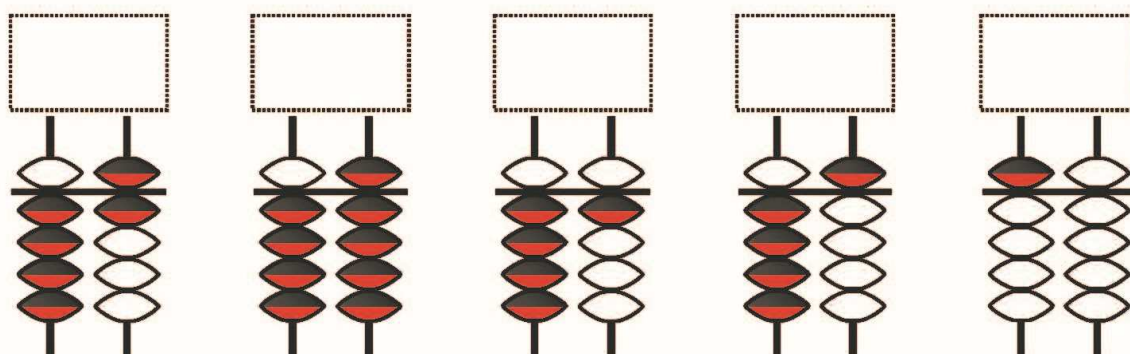
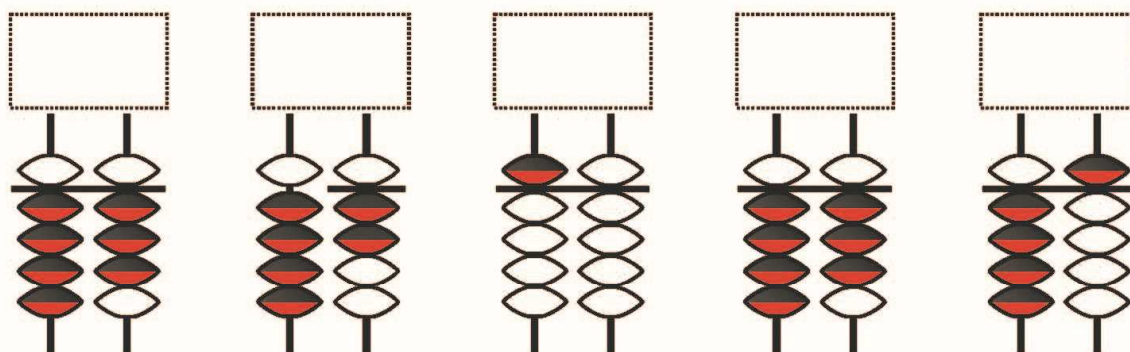
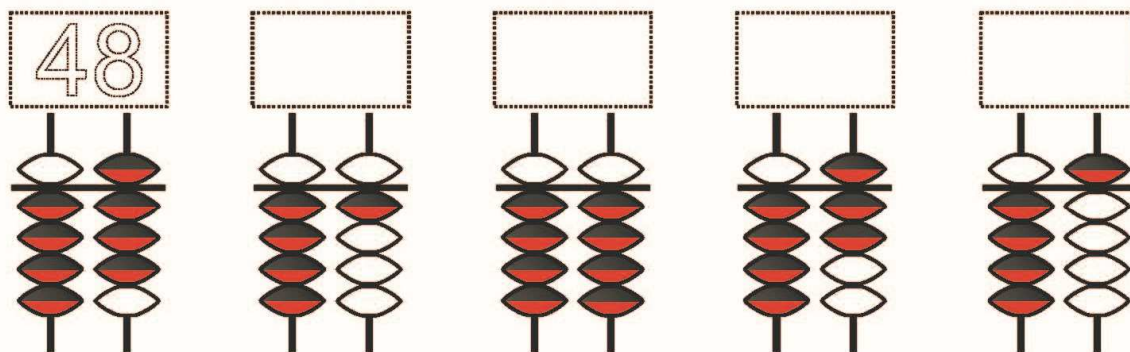
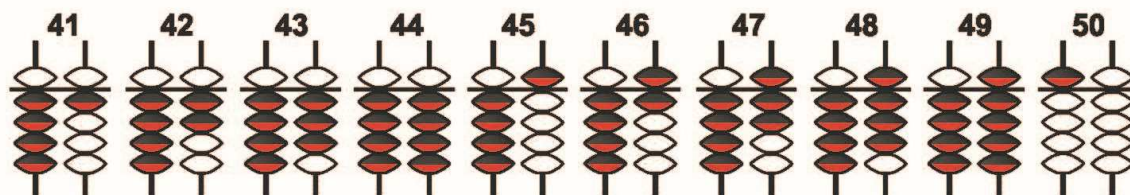
Задание №4. Посмотри внимательно на изображения в каждой строке.

Дорисуй то изображение, которое по логике должно быть следующим.



Урок 22. Числа от 1 до 50.


Задание №1. Посмотри на счеты и запиши соответствующее число.



Задание №2.

СЧИТАЕМ ДО ПЯТИДЕСЯТИ

Напиши все недостающие числа.



Задание №3.

Реши примеры на абакусе.

30	30	30	30	30	30	30	30
10	11	12	13	14	15	16	17

22	25	21	41	23	25	28	19
11	11	10	-10	20	20	21	20
1	11	13	11	-11	-15	-13	-15

Реши примеры на ментальной карте


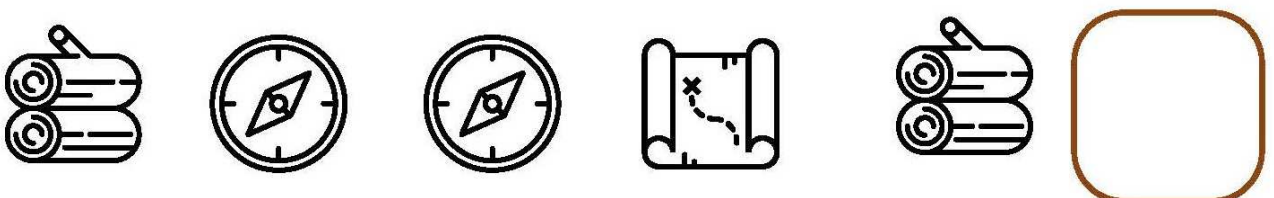




31	32	30	35	45	46	47	48
11	12	13	14	-15	-16	-17	-18

30	22	23	24	25	26	27	28
10	20	20	20	20	20	20	20
-10	-32	-13	-14	-15	-16	-17	-18



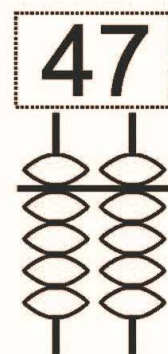
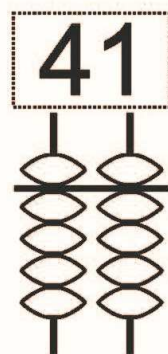
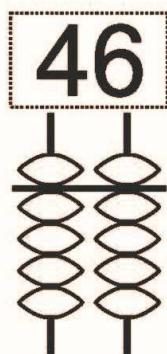
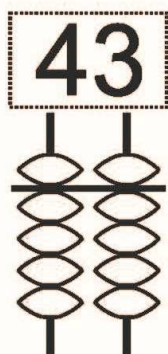
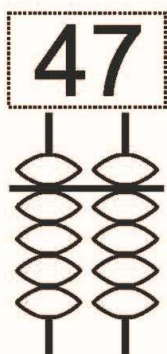
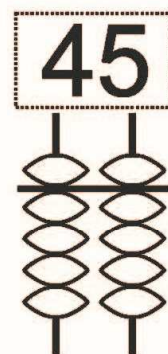
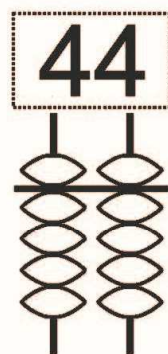
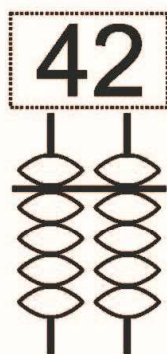
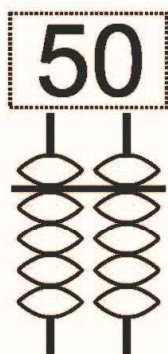
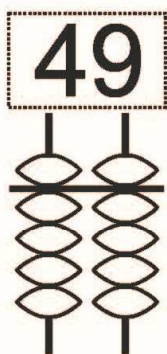
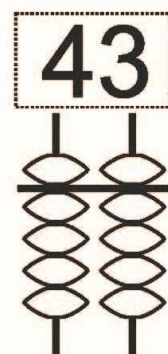
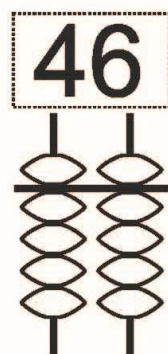
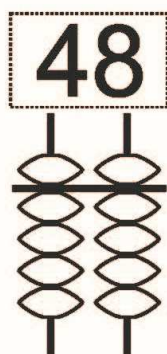
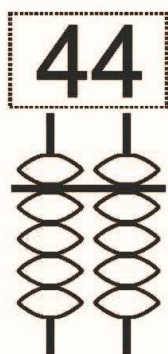
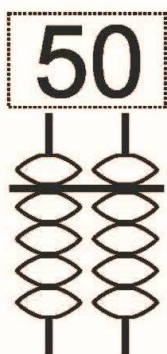
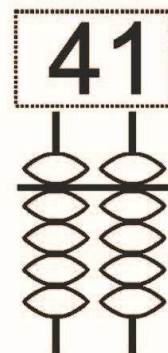
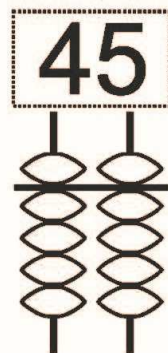
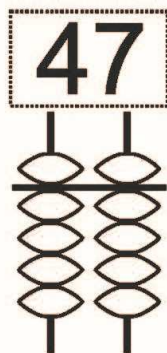
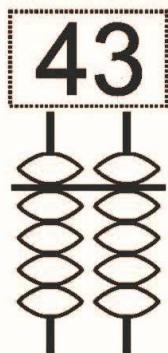
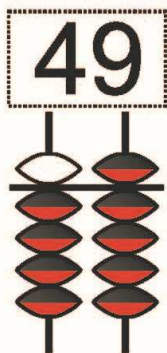
Задание №4. Посмотри внимательно на изображения в каждой строке.

Дорисуй то изображение, которое по логике должно быть следующим.



Урок 23. Числа от 1 до 50.

Задание №1. Раскрась необходимое количество бусинок на абакусе.



Задание №2. Сосчитай яблоки с одинаковым количеством точек и раскрась их в соответствующие цвета.

красный

желтый

зеленый

голубой



Задание №3.

Реши примеры на абакусе.

30	20	20	21	44	45	47	48
13	11	22	13	-14	-25	-16	-17

22	25	21	41	43	25	28	29
21	21	20	-20	-22	22	21	20
1	2	3	11	-10	-5	-15	-15

Реши примеры на ментальной картею

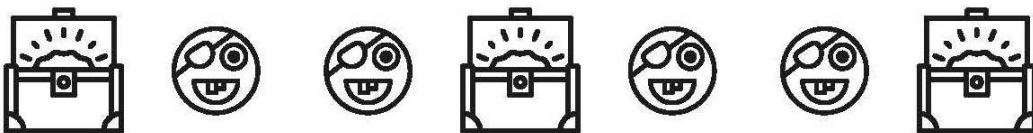


21	22	20	25	45	46	47	48
11	12	13	14	-35	-36	-37	-38

30	22	23	24	25	26	27	28
10	20	20	20	20	20	20	20
-30	-32	-33	-34	-35	-36	-37	-38



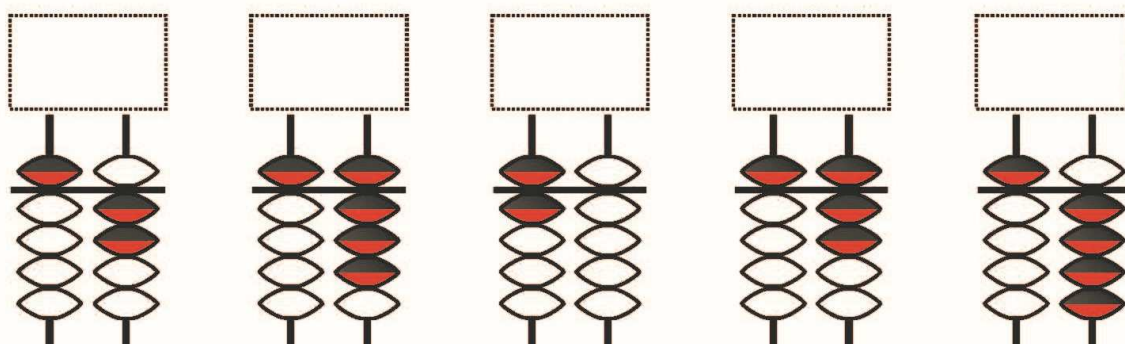
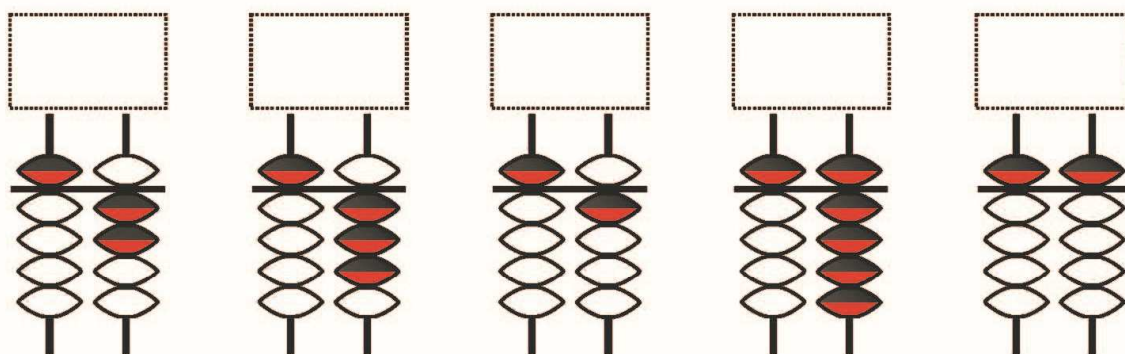
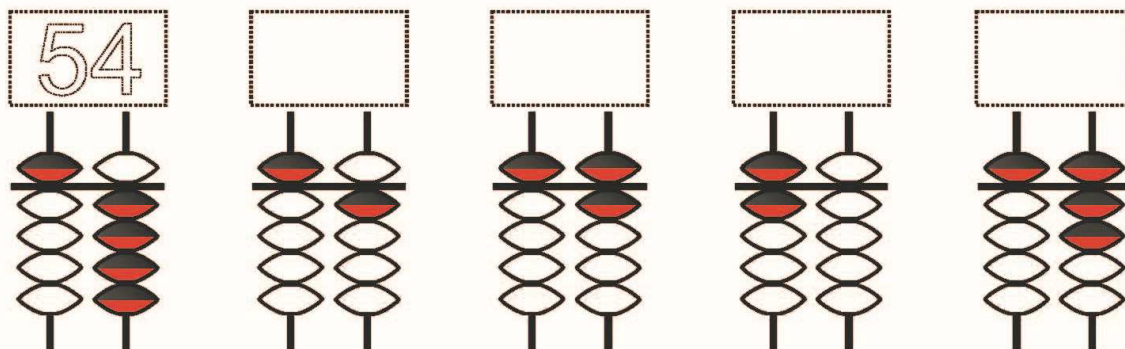
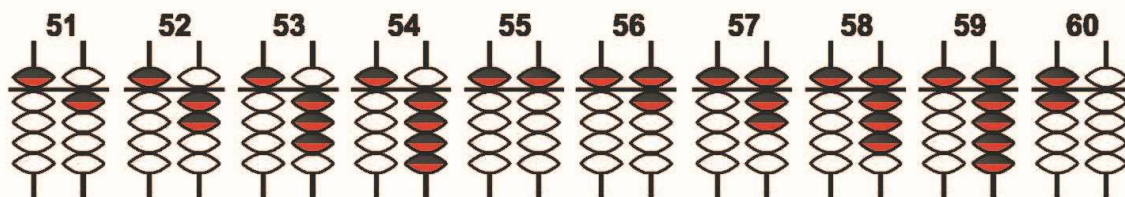
Задание №4. Посмотри внимательно на изображения в каждой строке.

Дорисуй то изображение, которое по логике должно быть следующим.



Урок 24. Числа от 1 до 60.

Задание №1. Посмотри на счеты и запиши соответствующее число.



Задание №2. Сосчитай груши с одинаковым количеством точек и раскрась их в соответствующие цвета.

зеленый

фиолетовый

голубой

оранжевый



Задание №3.

Реши примеры на абакусе.

50	50	50	51	54	55	56	57
10	11	12	13	14	15	16	17

32	25	26	41	43	25	28	29
11	21	20	-10	-12	22	21	20
5	-11	3	11	-10	-35	-35	-35





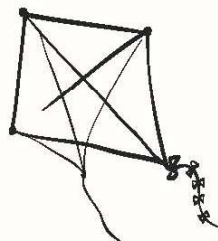
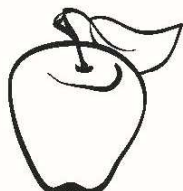





Реши примеры на ментальной карте.

51	52	50	55	45	46	57	58
11	12	13	14	-25	-16	-7	-8

20	32	33	34	35	36	37	38
10	10	10	10	10	10	10	10
-30	-32	-33	-34	-35	-36	-37	-38



Задание №4. В каждом ряду раскрась или обозначь любым другим способом два рисунка, которые имеют что-то общее, и объясни свой выбор.



Урок 25. Числа от 1 до 60.

Задание №1. Раскрась необходимое количество бусинок на абакусе.

57	51	59	55	54
56	60	58	52	53
59	53	58	51	55
57	55	54	56	60



Задание №2. Сосчитай желуди с одинаковым количеством точек и раскрась их в соответствующие цвета.

желтый

оранжевый

синий

коричневый



Задание №3.

Реши примеры на абакусе.

60	61	62	63	64	65	66	67
-10	-11	-12	-13	-14	-15	-16	-17

12	15	16	21	13	15	18	19
11	21	10	-10	-12	22	21	20
-3	-12	-13	11	10	-35	-35	-35




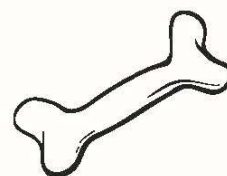






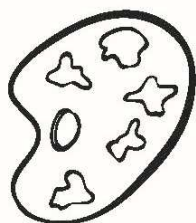
Реши примеры на ментальной карте.

61	62	63	65	65	66	67	68
-11	-12	-13	-15	-5	-16	-17	-18

20	10	20	10	30	30	30	20
20	10	10	10	10	10	10	20
-30	-20	-30	-10	-20	-10	-20	-10

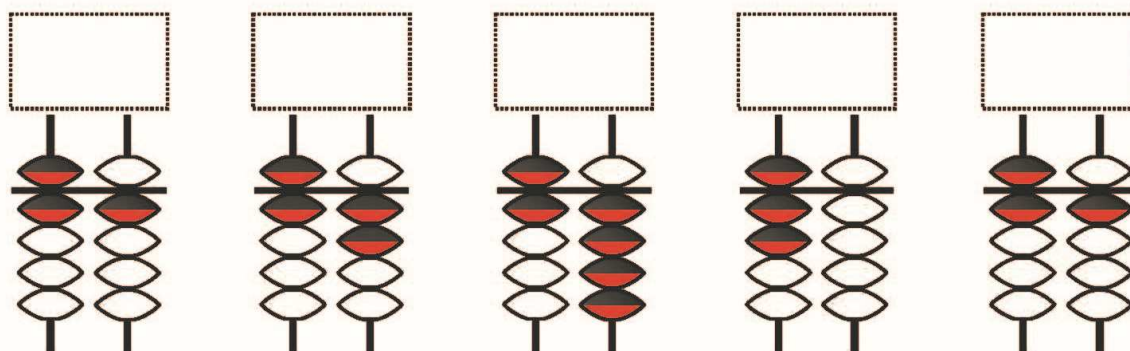
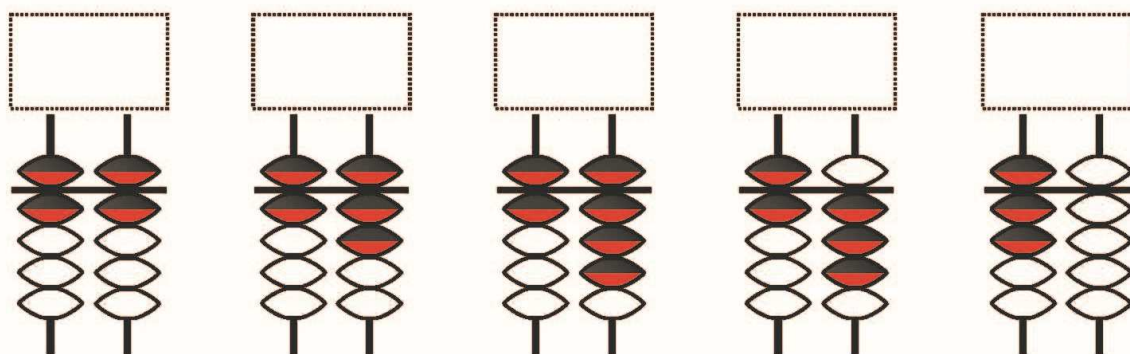
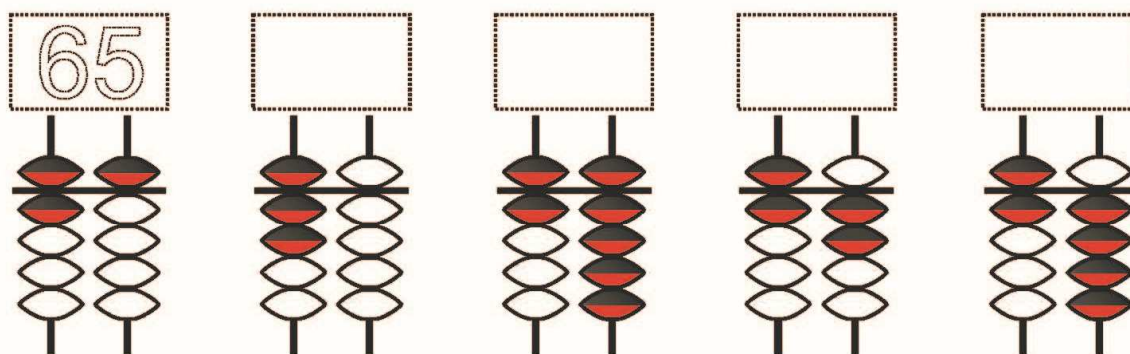
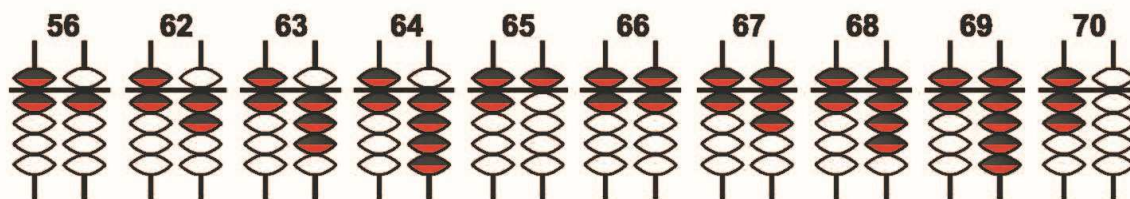


Задание №4. В каждом ряду раскрась или обозначь любым другим способом два рисунка, которые имеют что-то общее, и объясни свой выбор.



Урок 26. Числа от 1 до 70.

Задание №1. Посмотри на счеты и запиши соответствующее число.



Задание №2. Сосчитай желуди с одинаковым количеством точек и раскрась их в соответствующие цвета.

зеленый

фиолетовый

голубой

оранжевый



Задание №3.

Реши примеры на абакусе.

60	60	60	60	60	60	60	60
10	1	2	3	4	5	6	7

52	55	56	61	63	65	68	62
11	21	10	-10	-12	2	1	5
-3	-11	-11	11	10	-15	-15	-15

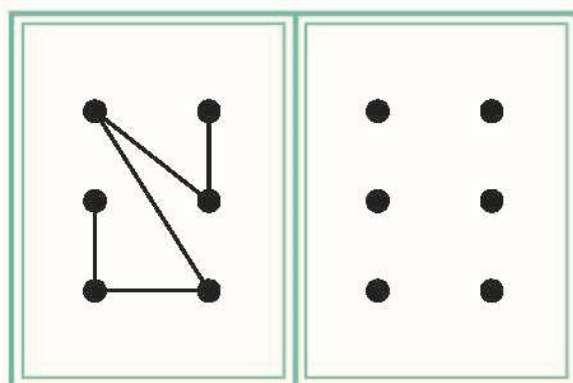
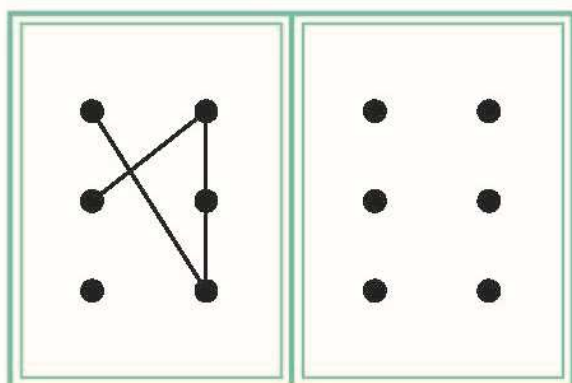
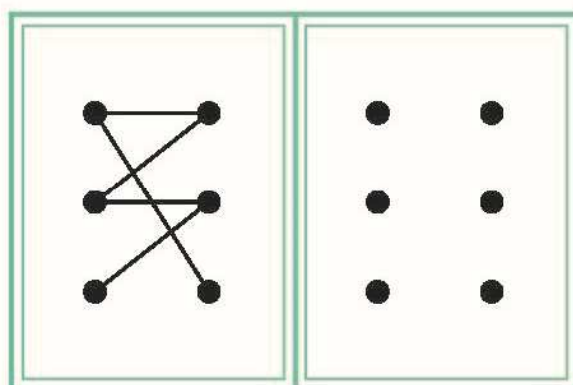
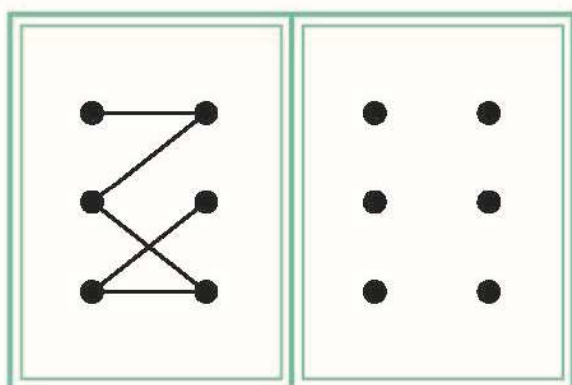
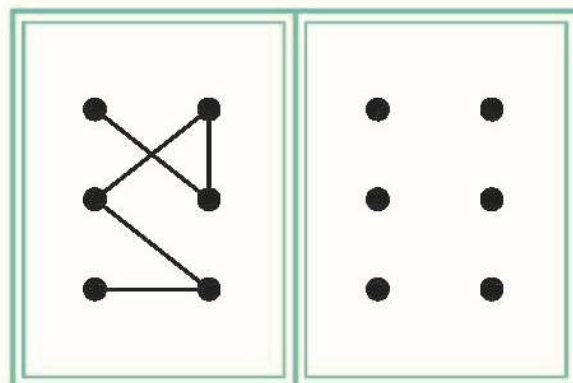
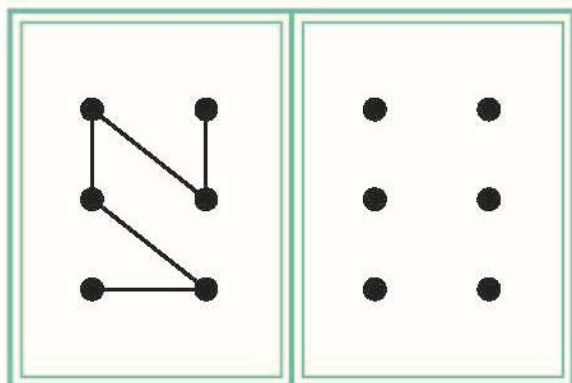
Реши примеры на ментальной карте.

60	62	63	65	65	66	67	68
10	-10	-11	-5	-55	-56	-57	-58

50	50	50	10	10	10	10	20
20	10	20	50	30	10	20	10
-10	-10	-20	-10	-20	-10	-20	-10

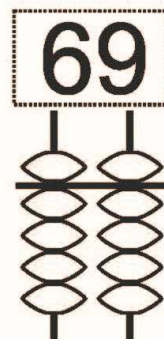
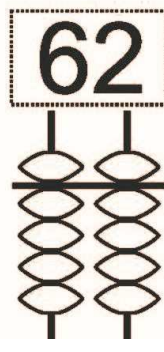
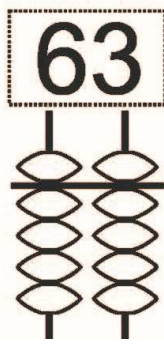
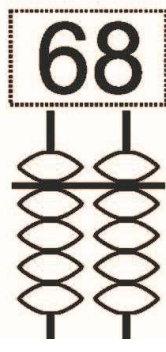
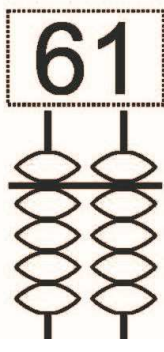
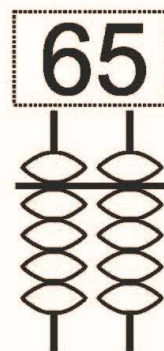
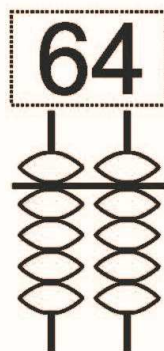
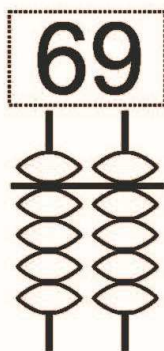
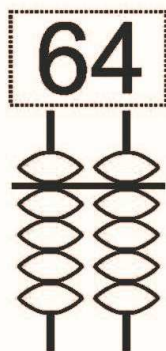
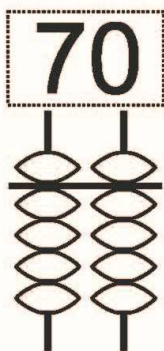
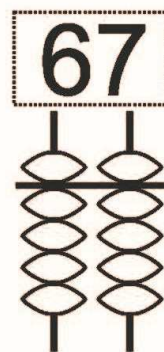
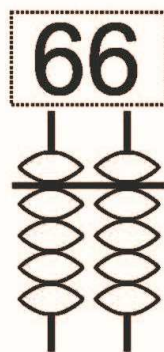
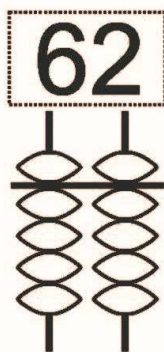
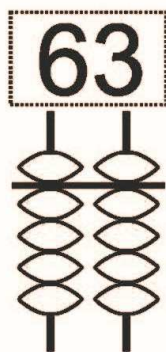
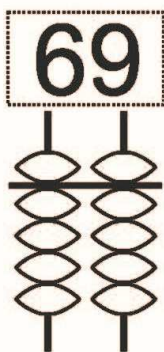
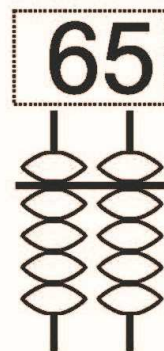
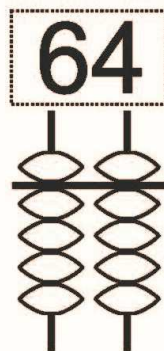
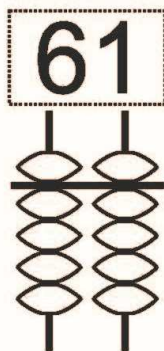
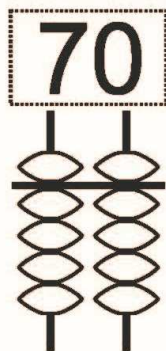
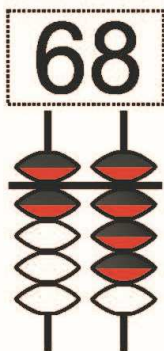


Задание №4. Перерисуй фигуры по заданным точкам.

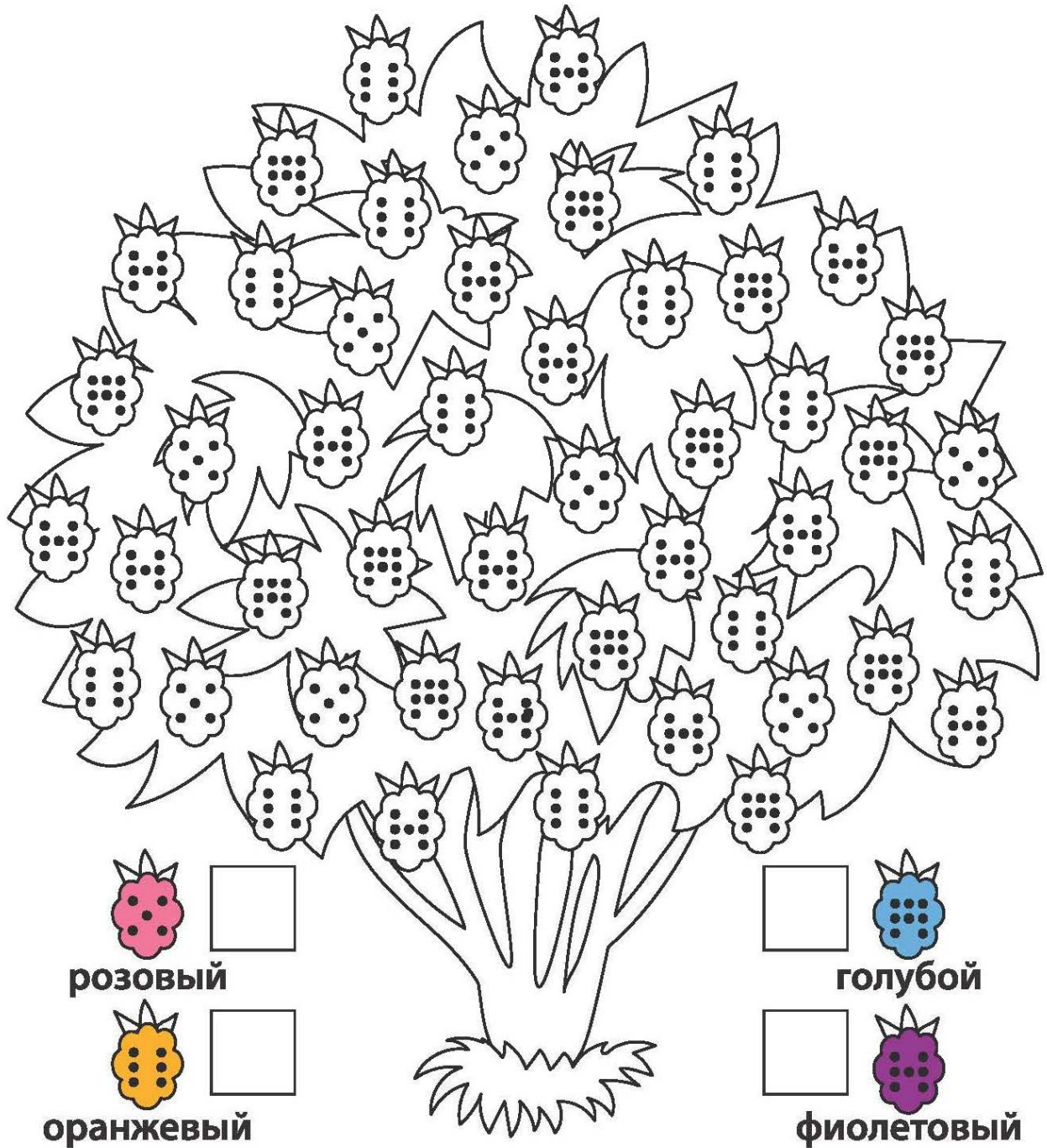


Урок 27. Числа от 1 до 70.

Задание №1. Раскрась необходимое количество бусинок на абакусе.



Задание №2. Сосчитай ягоды малины с одинаковым количеством точек и раскрась их в соответствующие цвета.



Задание №3.

Реши примеры на абакусе.

60	60	60	60	60	60	60	60
10	1	2	3	4	5	6	7
5	3	5	1	5	3	2	2

52	55	56	61	63	65	68	62
10	10	10	-11	-13	2	1	5
-2	-15	-11	10	10	-7	-5	-5
10	20	-5	10	10	10	10	10



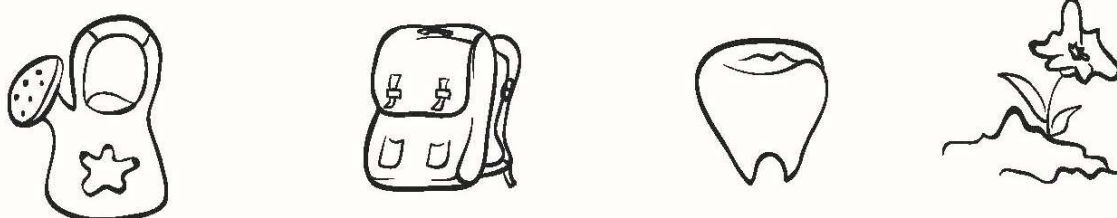
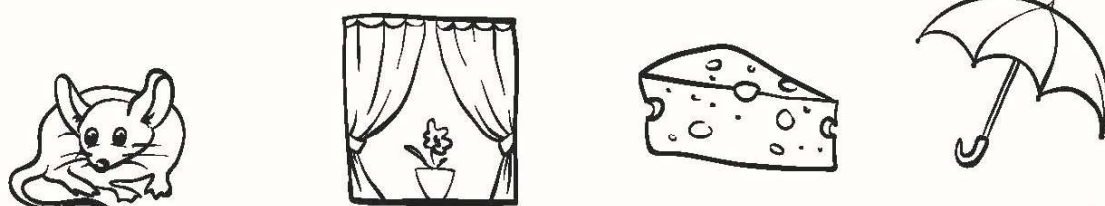

Реши примеры на ментальной карте.

50	65	62	65	65	66	67	68
20	-10	-11	-5	-15	-16	-17	-8

55	52	53	10	16	11	18	29
10	10	20	54	30	11	20	10
-15	-12	-23	-14	-26	-10	-28	-19

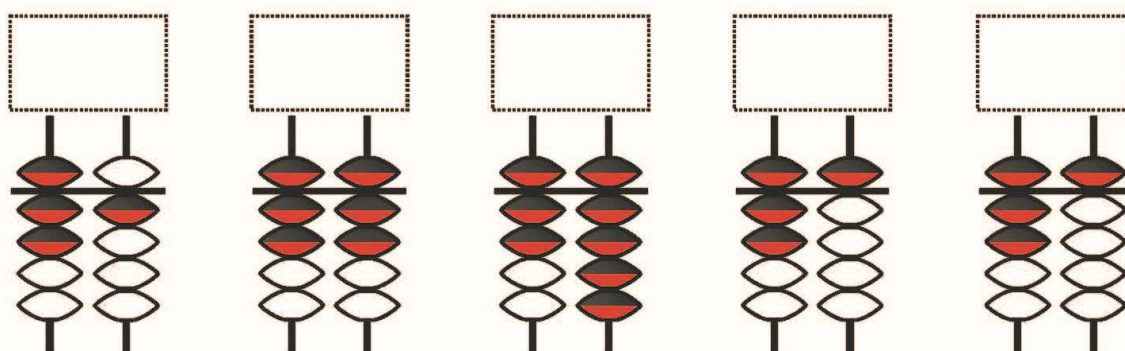
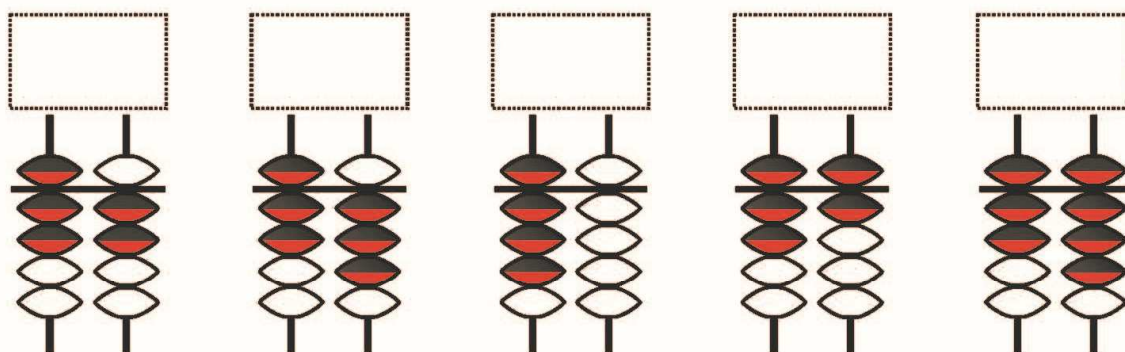
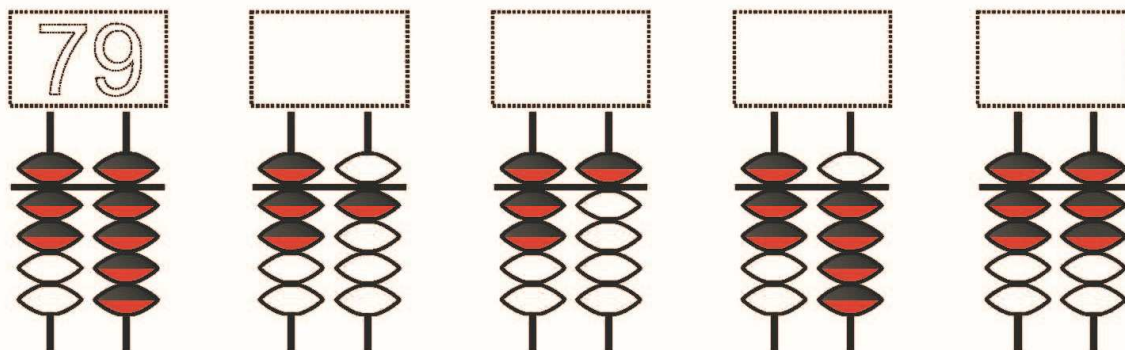
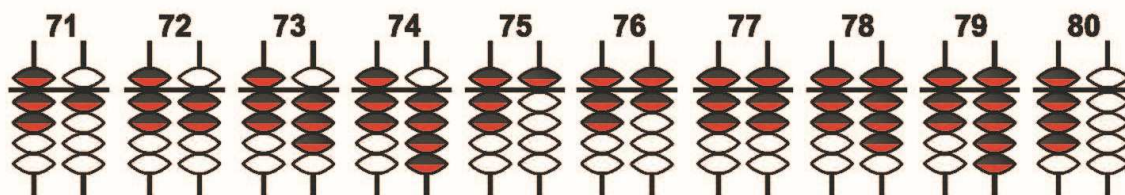


Задание №4. В каждом ряду раскрась или обозначь любым другим способом два рисунка, которые имеют что-то общее, и объясни свой выбор.



Урок 28. Числа от 1 до 80.

Задание №1. Посмотри на счеты и запиши соответствующее число.



Задание №2. Сосчитай гроздья винограда с одинаковым количеством точек и раскрась их в соответствующие цвета.

СИНИЙ

салатовый

желтый

коричневый



Задание №3.

Реши примеры на абакусе.

70	70	70	70	70	70	70	70
10	1	2	3	4	5	6	7

62	65	66	61	63	65	68	62
11	11	10	10	11	12	10	15
-3	-15	-11	-11	-10	-25	-28	-25

Реши примеры на ментальной карте.


70	72	73	75	75	76	77	78
10	-10	-11	-5	-55	-56	-57	-58

50	50	50	10	10	70	50	70
20	10	20	50	50	10	20	-10
10	10	-10	20	-10	-10	-20	10



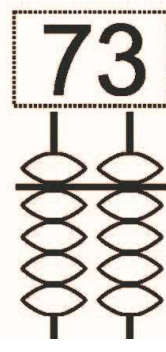
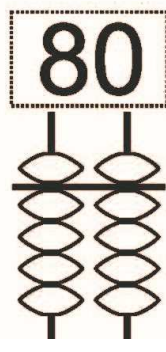
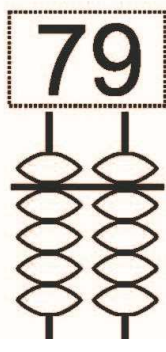
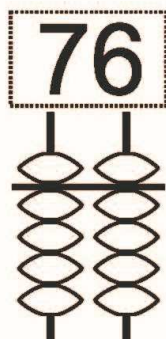
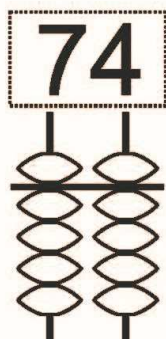
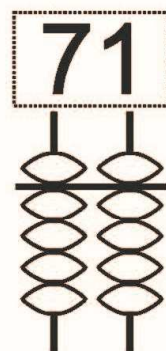
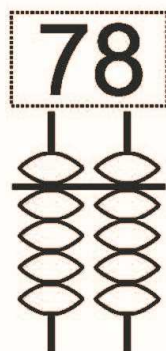
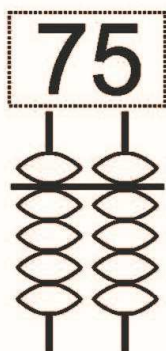
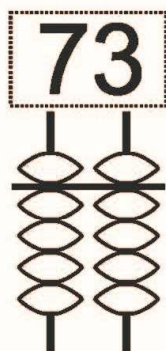
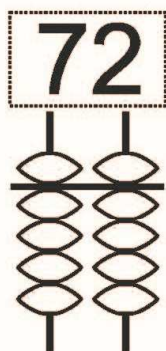
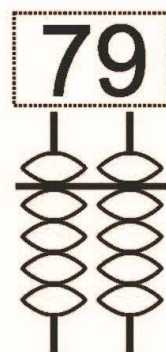
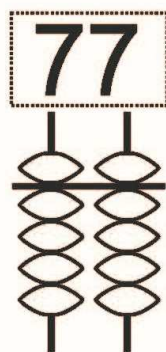
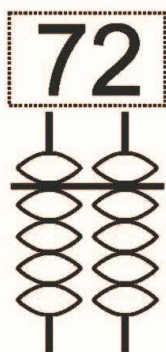
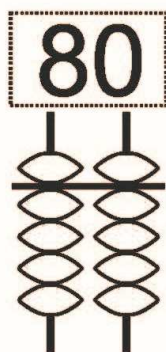
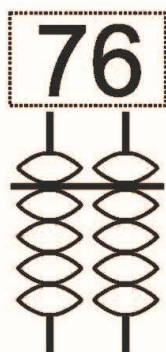
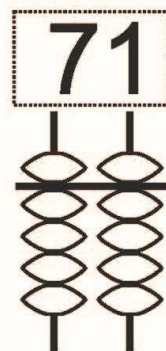
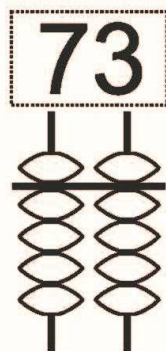
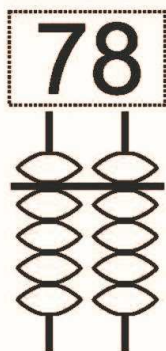
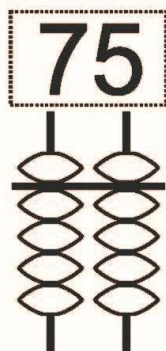
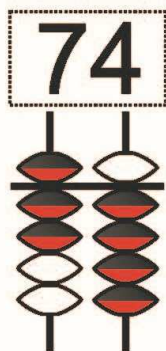
Задание №4. Найди и обведи в строках указанную последовательность фруктов.

Найди и обведи в строках указанную последовательность фруктов:




Урок 29. Числа от 1 до 80.

Задание №1. Раскрась необходимое количество бусинок на абакусе.



Задание №2. Сосчитай гроздья рябины с одинаковым количеством точек и раскрась их в соответствующие цвета.



Задание №3.

Реши примеры на абакусе.

60	60	60	60	60	60	60	60
10	11	12	13	14	15	16	17
10	3	5	1	5	3	2	2

62	65	66	62	69	61	68	62
10	10	10	-12	-19	5	1	5
-2	-15	-11	10	10	-16	-15	-15
10	20	-5	10	10	10	10	10


Реши примеры на ментальной карте.

50	75	76	75	75	76	77	78
30	-10	-11	-5	-15	-16	-17	-8

60	60	60	60	60	60	60	60
10	11	12	13	14	15	16	17
10	3	5	1	5	3	2	2

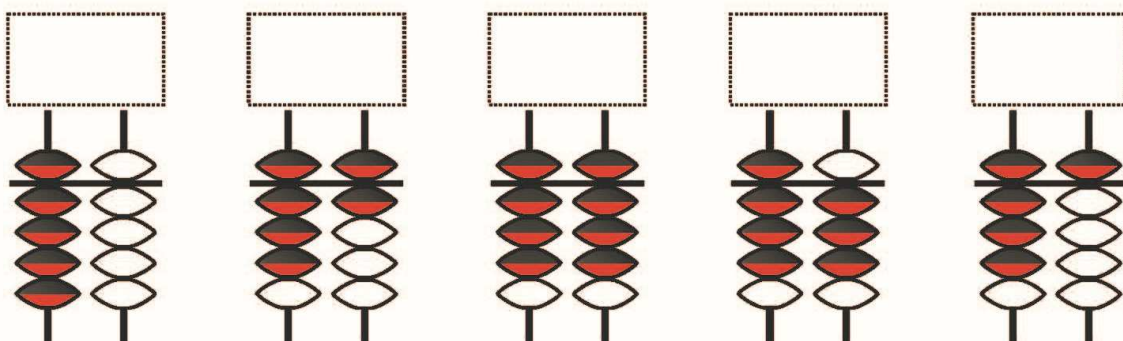
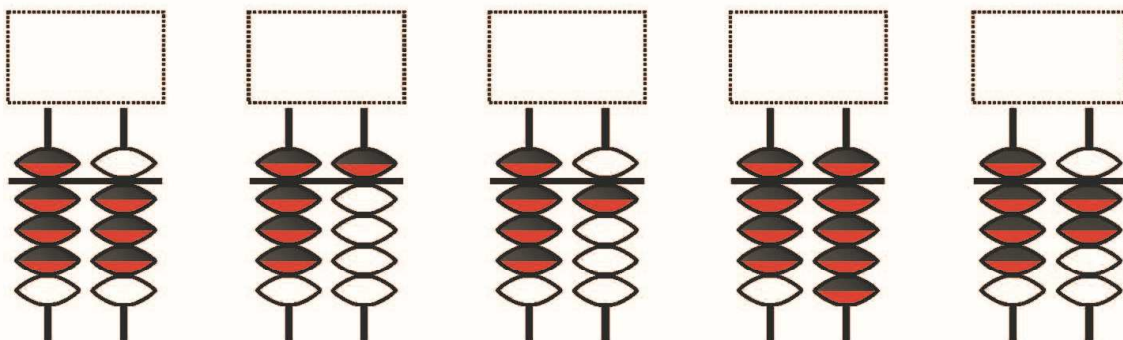
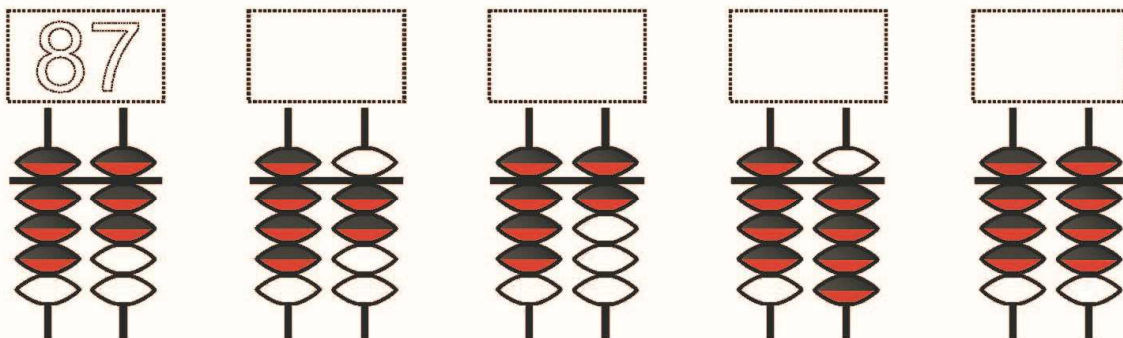
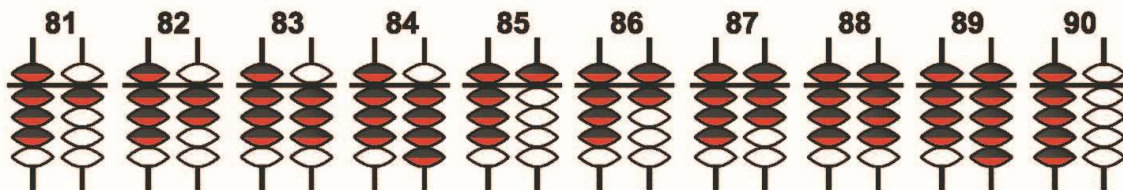


Задание №4. Рассмотрите и сравните рисунки. Раскрасьте тот, на котором изображено меньше деревьев, больше овец и коров, много облаков.

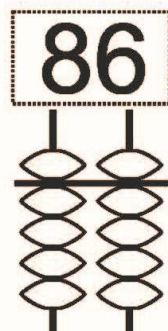
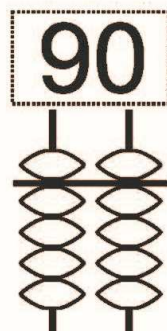
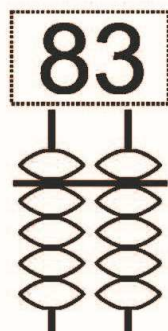
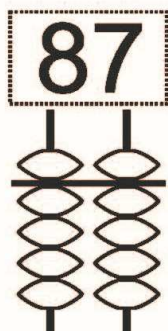
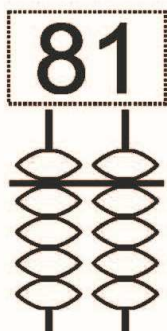
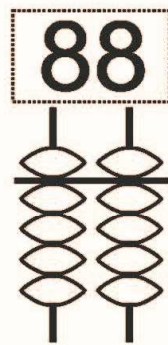
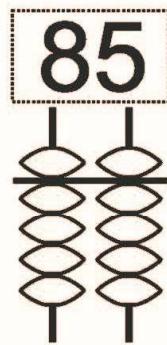
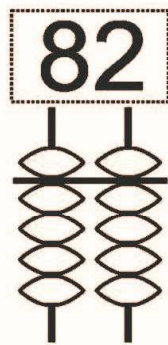
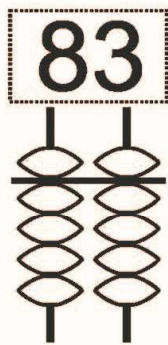
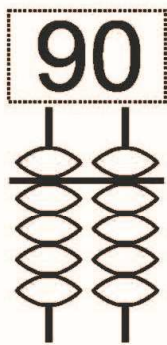
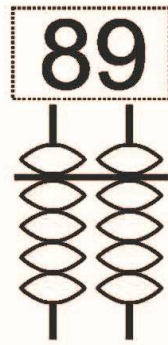
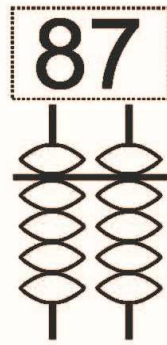
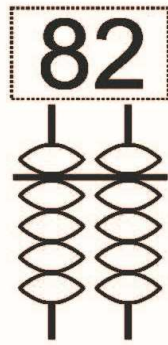
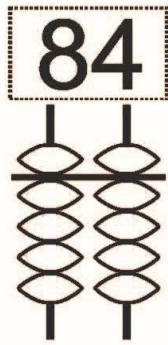
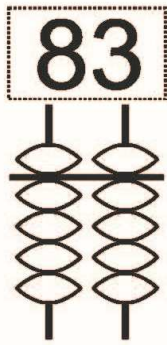
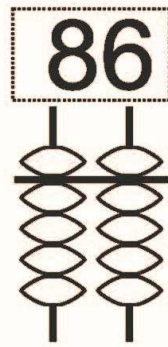
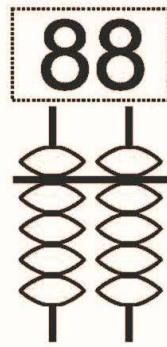
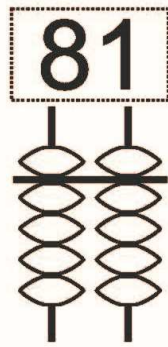
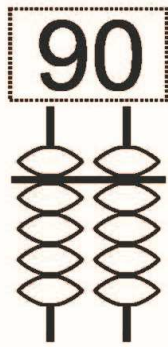
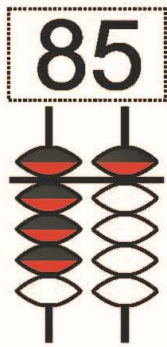


Урок 30. Числа от 1 до 90.

Задание №1. Посмотри на счеты и запиши соответствующее число.



Задание №2. Раскрась необходимое количество бусинок на абакусе.



Задание №3.

Реши примеры на абакусе.

83	81	84	87	86	85	84	83
5	3	5	-2	-16	2	-14	-13

70	75	78	72	77	78	77	75
10	10	10	-10	10	10	-5	4
9	-5	-3	2	-5	-8	10	10

Реши примеры на ментальной карте.

80	80	85	83	85	86	82	87
-20	-30	10	-13	4	2	5	-2



60	60	60	60	60	60	60	60
10	10	15	11	12	13	16	18
10	4	-10	-10	-10	-10	-10	-10





Задание №4.

ВЛЕВО - ВПРАВО



Выбери и раскрась ёжика, идущего влево.



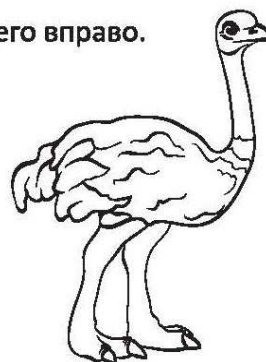

Выбери и раскрась кита, плывущего вправо.



Выбери и раскрась муравья, идущего влево.

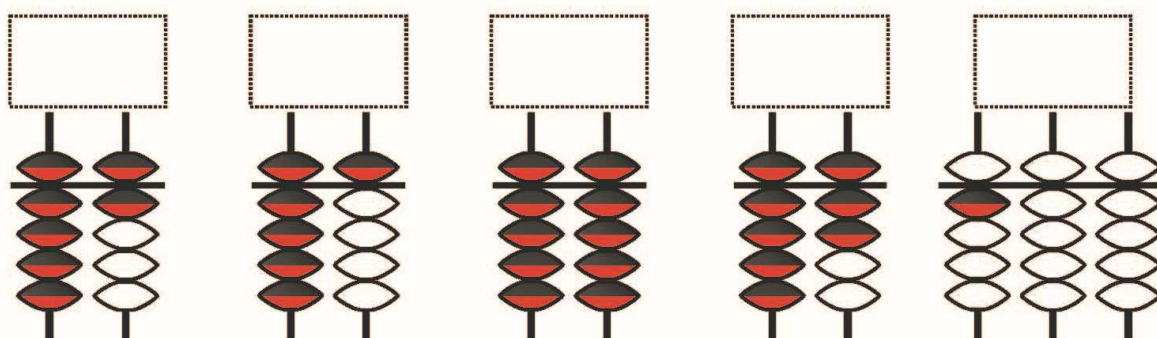
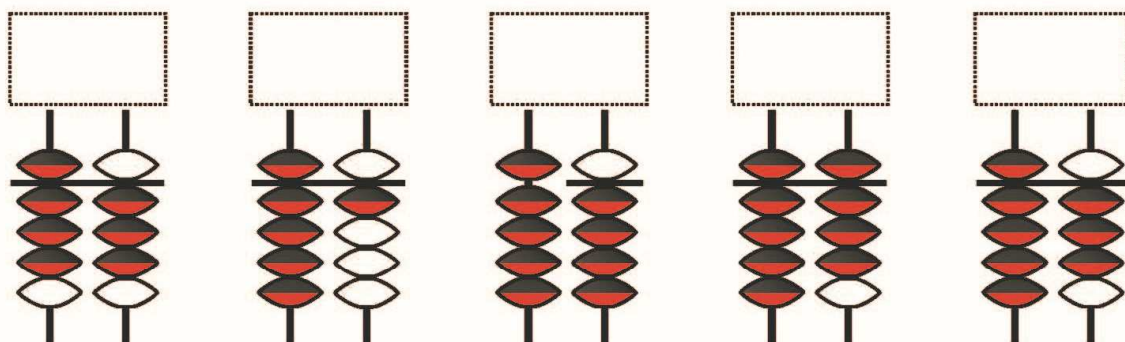
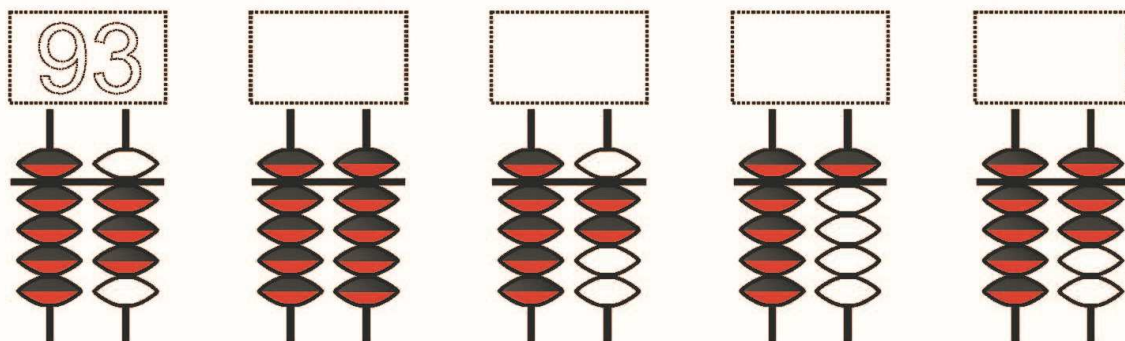
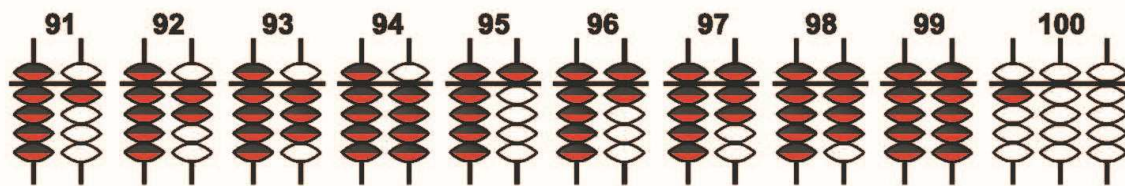


Выбери и раскрась страуса, идущего вправо.

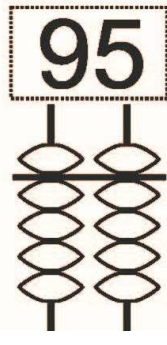
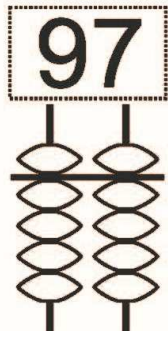
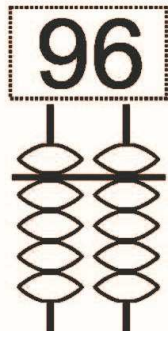
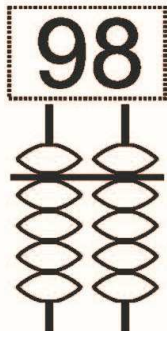
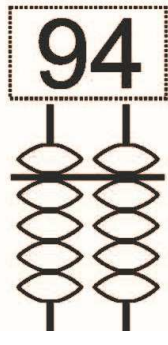
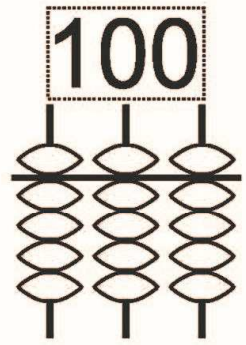
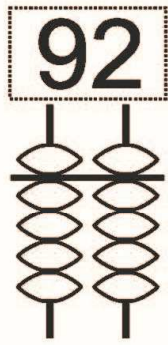
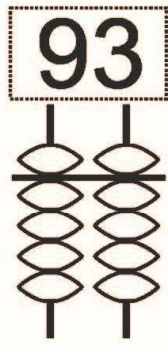
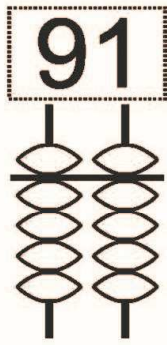
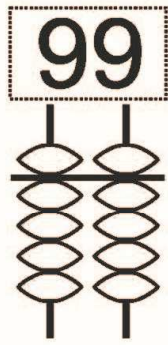
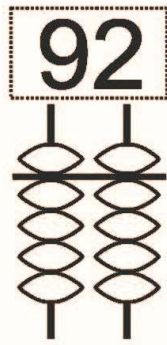
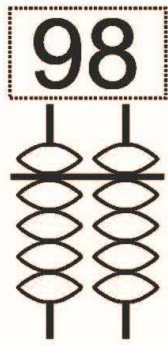
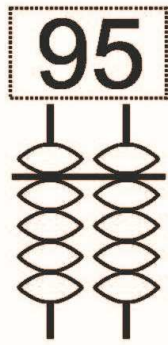
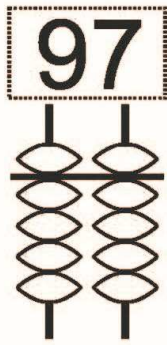
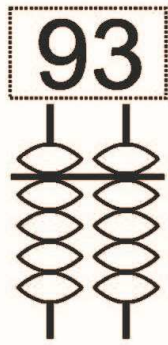
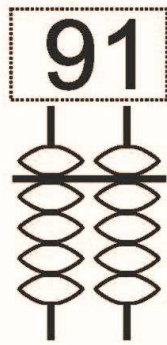
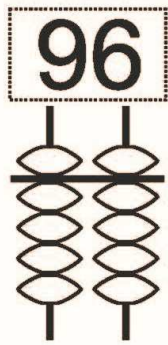
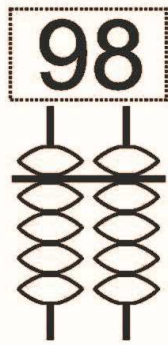
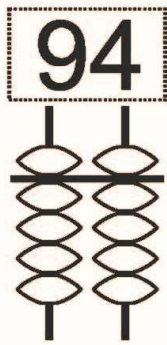
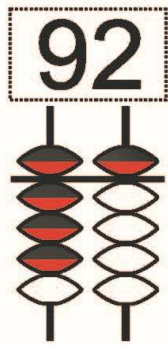


Урок 31. Числа от 1 до 100.

Задание №1. Посмотри на счеты и запиши соответствующее число.



Задание №2. Раскрась необходимое количество бусинок на абакусе.



Задание №3.

Реши примеры на абакусе.

93	91	94	97	96	95	94	93
5	3	5	-2	-16	2	-14	-13

70	85	88	92	87	78	87	85
20	10	10	-10	10	20	-5	3
6	-5	-1	2	-2	-8	10	10

Реши примеры на ментальной карте.

90	90	95	93	95	96	92	97
-20	-30	-10	-13	4	2	5	-2

60	80	80	80	80	80	80	80
10	10	15	11	12	13	16	18
20	4	-10	-10	-10	-10	-10	-10

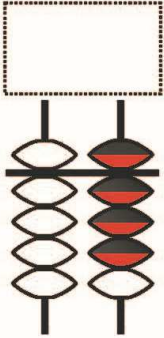
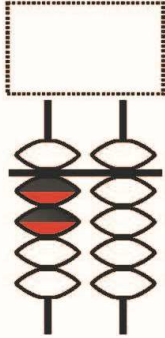
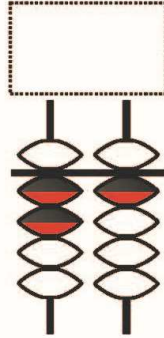
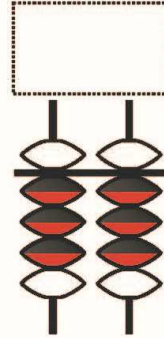
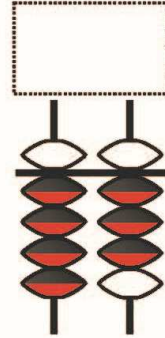
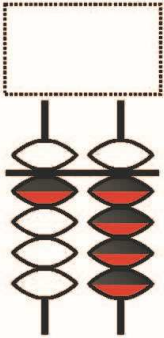
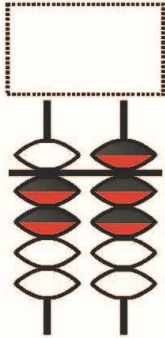
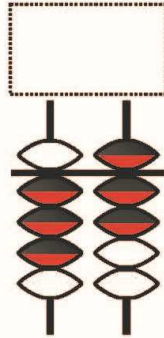
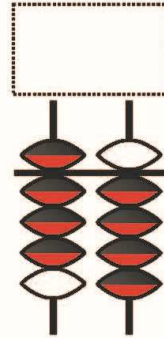
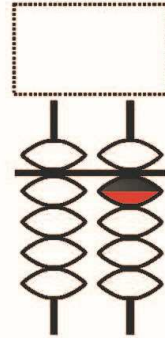
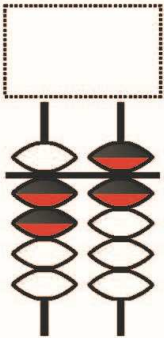
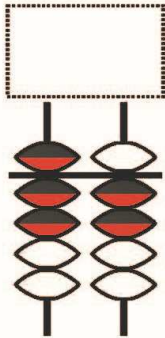
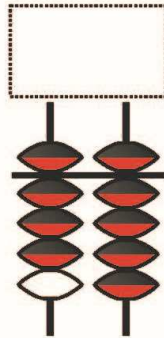
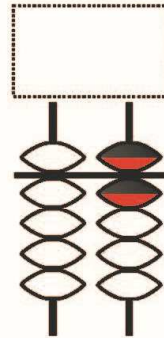
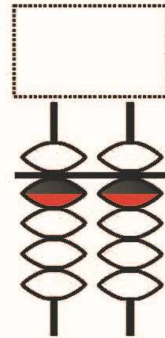
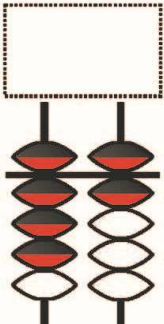
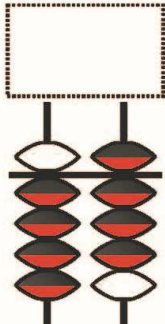
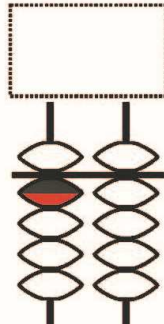
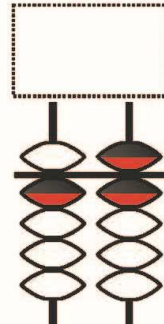
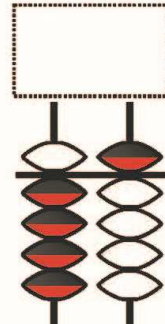


Задание №4. Внимательно посмотри на рисунок и определи, каких частей не хватает. Дорисуй их. Раскрась рисунок по своему усмотрению.



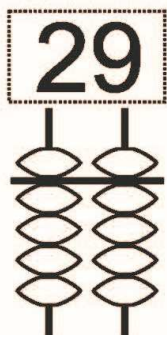
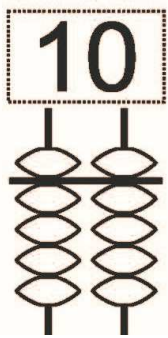
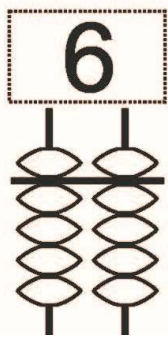
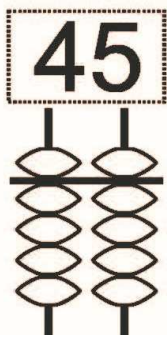
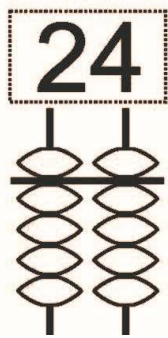

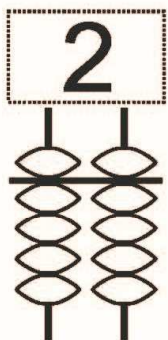
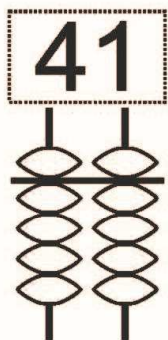
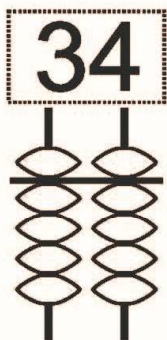
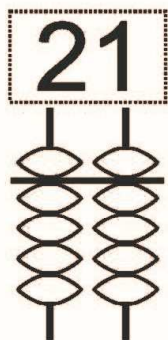
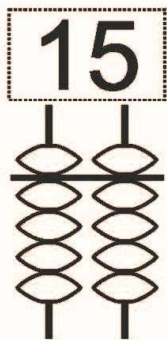
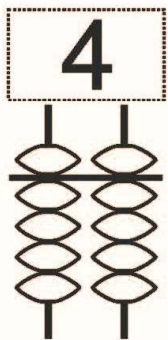
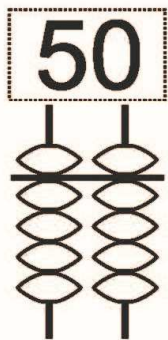
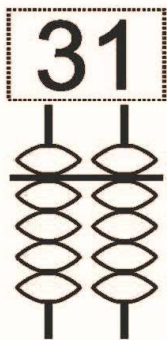
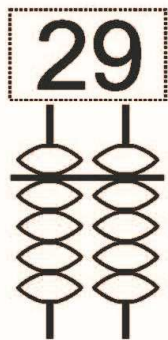
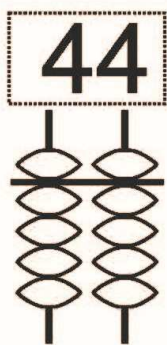
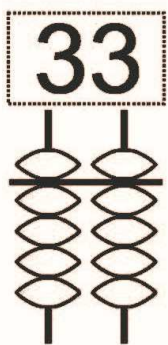
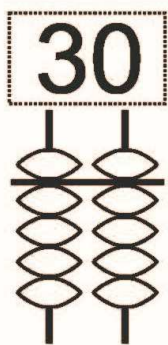
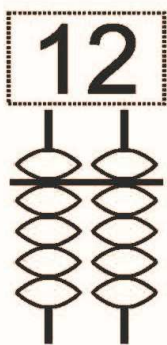
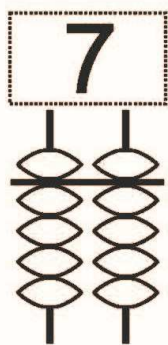
Урок 32. Числа от 1 до 100.

Задание №1. Посмотри на счеты и запиши соответствующее число.



Задание №2. Раскрась необходимое количество бусинок на абакусе.



Задание №3.

Реши примеры на абакусе.

53	71	24	87	25	15	94	93
1	3	5	-2	-15	4	-44	-43

10	65	38	12	17	78	97	15
20	10	10	-10	10	20	-5	3
8	-15	-3	2	-1	-8	2	80

Реши примеры на ментальной карте.

30	80	95	93	15	16	22	37
-20	-30	-40	-23	4	2	5	-2

50	20	10	70	10	20	50	30
10	10	16	12	12	12	16	18
20	5	-10	-10	-10	-10	-10	-10



Задание №4.

УЖИН НОСКОЕДА

Монстрик Носкоед очень любит есть носки.
Но ест он только по 1 носку из каждой пары.

1 Посчитай, сколько носков съел Носкоед на завтрак.



2 На ужин Носкоед заказал 2 носка с геометрическим узором, 1 – с изображением фруктов и 1 – твоего любимого цвета. Раскрась носки так, чтобы они пришлись по вкусу Носкоеду.

